



PREFEITURA MUNICIPAL DE CURITIBA

Concurso Público – Edital nº 01/2019

Prova Objetiva – 28/04/2019



INSCRIÇÃO	TURMA	NOME DO CANDIDATO	ORDEM
ASSINO DECLARANDO QUE LI E COMPREENDI AS INSTRUÇÕES ABAIXO:			

402 – Fiscal de Obras e Posturas

INSTRUÇÕES

1. Confira, acima, o seu número de inscrição, turma e nome. Assine no local indicado.
 2. Aguarde autorização para abrir o caderno de prova.
 3. Antes de iniciar a prova, confira a numeração de todas as páginas.
 4. A prova desta fase é composta de 40 questões objetivas.
 5. Nesta prova, as questões são de múltipla escolha, com 5 (cinco) alternativas cada uma, sempre na sequência **a, b, c, d, e**, das quais somente uma deve ser assinalada.
 6. A interpretação das questões é parte do processo de avaliação, não sendo permitidas perguntas aos aplicadores de prova.
 7. Ao receber o cartão-resposta, examine-o e verifique se o nome nele impresso corresponde ao seu. Caso haja irregularidade, comunique-a imediatamente ao aplicador de prova.
 8. O cartão-resposta deverá ser preenchido com caneta esferográfica preta, tendo-se o cuidado de não ultrapassar o limite do espaço para cada marcação.
 9. O tempo de resolução das questões, incluindo o tempo para preenchimento do cartão-resposta, é de 4 (quatro) horas.
 10. Não será permitido ao candidato:
 - a) Manter em seu poder relógios e qualquer tipo de aparelho eletrônico ou objeto identificável pelo detector de metais. Tais aparelhos deverão ser DESLIGADOS e colocados OBRIGATORIAMENTE dentro do saco plástico, que deverá ser acomodado embaixo da carteira ou no chão. É vedado também o porte de armas.
 - b) Usar bonés, gorros, chapéus ou quaisquer outros acessórios que cubram as orelhas, ressalvo o disposto nos itens 6.6.3 e 6.6.3.1 do Edital.
 - c) Usar fone ou qualquer outro dispositivo no ouvido. O uso de tais dispositivos somente será permitido quando indicado para o atendimento especial.
 - d) Levar líquidos, exceto se a garrafa for transparente e sem rótulo.
 - e) Comunicar-se com outro candidato, usar calculadora e dispositivos similares, livros, anotações, régua de cálculo, impressos ou qualquer outro material de consulta.
 - f) Portar carteira de documentos/dinheiro ou similares.
 - g) Usar óculos escuros, ressalvados os de grau, quando expressamente por recomendação médica, devendo o candidato, então, respeitar o subitem 6.6.5 do Edital.
 - h) Emprestar ou tomar emprestados materiais para realização das provas.
 - i) Ausentar-se da sala de provas sem o acompanhamento do fiscal, antes do tempo mínimo de permanência estabelecido no item 9.16 ou ainda não permanecer na sala conforme estabelecido no item 9.20 do Edital.
 - j) Fazer anotação de informações relativas às suas respostas (copiar gabarito) fora dos meios permitidos.
- Caso alguma dessas exigências seja descumprida, o candidato será excluído do processo seletivo.**
11. Será ainda excluído do Concurso Público o candidato que:
 - a) Lançar mão de meios ilícitos para executar as provas.
 - b) Ausentar-se da sala de provas portando as Folhas de Respostas e/ou Cadernos de Questões, conforme o item 9.19 e 9.21.b do Edital.
 - c) Perturbar, de qualquer modo, a ordem dos trabalhos e/ou agir com descortesia em relação a qualquer dos examinadores, executores e seus auxiliares, ou autoridades presentes.
 - d) Não cumprir as instruções contidas no Caderno de Questões de provas e nas Folhas de Respostas.
 - e) Não permitir a coleta de sua assinatura.
 - f) Não se submeter ao sistema de identificação por digital e detecção de metal.
 12. Ao concluir a prova, permaneça em seu lugar e comunique ao aplicador de prova. Aguarde autorização para entregar o caderno de prova e o cartão-resposta.
 13. Se desejar, anote as respostas no quadro disponível no verso desta folha, recorte na linha indicada e leve-o consigo.

DURAÇÃO DESTA PROVA: 4 horas.

Língua Portuguesa

Raciocínio Lógico

Legislação

Conhecimentos Específicos

✂

RESPOSTAS							
01 -	06 -	11 -	16 -	21 -	26 -	31 -	36 -
02 -	07 -	12 -	17 -	22 -	27 -	32 -	37 -
03 -	08 -	13 -	18 -	23 -	28 -	33 -	38 -
04 -	09 -	14 -	19 -	24 -	29 -	34 -	39 -
05 -	10 -	15 -	20 -	25 -	30 -	35 -	40 -

LÍNGUA PORTUGUESA

O texto abaixo é referência para as questões 01 a 03.

Em ensaio, a jornalista Alice Fishburn comenta sua decisão de consagrar um ano _____ leitura exclusiva de mulheres. A sua iniciativa ganhou corpo _____ partir da observação do sistema de pontuação que seu irmão mais novo havia criado para se motivar _____ ler mulheres e outras minorias.

Segundo a autora, as regras do irmão funcionavam da seguinte forma: “Pela leitura de uma mulher, ele receberia um ponto. Por cada escritor vivo, outro ponto. Se a mulher estivesse viva, ele receberia dois pontos, enquanto a leitura de um autor falecido lhe custaria igual pontuação. Seu objetivo era conseguir manter um total acumulado de zero ou superar essa pontuação. Mas, para isso, ele sentia dificuldades”.

Impressionada com tamanha disciplina, Fishburn, que se define feminista, viu-se obrigada _____ confrontar a precariedade das suas próprias estantes, questionando quão difícil seria, em nossa época, ter notícias do trabalho de escritoras antigas e contemporâneas.

Ela surpreendeu-se **ao constatar que, apesar de todo o seu feminismo, a sua lista de leituras do ano anterior resumia-se _____ títulos de “literatura vitoriana e testosterona”.**

(Disponível em: <https://www1.folha.uol.com.br/colunas/juliana-de-albuquerque/2019/03/por-que-ler-mulheres.shtml>, acesso em 13, mar. 2019.)

01 - Assinale a alternativa que completa as lacunas acima, na ordem em que aparecem no texto.

- a) à – à – a – a – a.
- ▶ b) à – a – a – a – a.
- c) a – a – à – à – a.
- d) a – à – à – à – à.
- e) à – a – a – a – à.

02 - Sobre o texto, é correto afirmar que a jornalista:

- a) foi influenciada por seu irmão, pois sabia que lia poucos livros escritos por mulheres.
- b) passou a ler mais títulos de escritoras mulheres, pois estes valiam mais pontos no sistema de seu irmão.
- ▶ c) constatou que, apesar de feminista, tinha lido poucos títulos de autoria de mulheres.
- d) percebeu que suas estantes estavam muito vazias.
- e) tinha como gênero preferido a literatura vitoriana e de testosterona.

03 - A sentença destacada no último parágrafo estabelece com a informação anterior uma relação de:

- a) restrição.
- b) condição.
- c) consequência.
- ▶ d) temporalidade.
- e) finalidade.

04 - Leia o seguinte trecho:

Em seu recurso, o autor alegou que sua mãe não tem condições de sustentá-lo, pois está desempregada. Seu pai, apesar de efetuar alguns depósitos, os faz fora do prazo e em valores inferiores ao que foi combinado. Segundo o autor, sua avó paterna recebe pensão e tem responsabilidade complementar em relação a seu pai, devendo, assim, arcar com seus alimentos, porém a avó diz _____.

(Disponível em: <https://correio-forense.jusbrasil.com.br/noticias/660444788/>. Acesso em 12 de abril. 2019)

Para completar a lacuna final, considere as seguintes possibilidades:

1. não lhe poder fazer.
2. não poder fazer isso.
3. não podê-lo fazer.
4. não poder o fazer.
5. não poder fazê-lo.
6. não o poder fazer.
7. não poder fazer-lhe.

Completam corretamente a lacuna:

- a) 4 e 6.
- b) 1, 3 e 5.
- c) 1, 2 e 7.
- ▶ d) 2, 5 e 6.
- e) 3, 4 e 7.

05 - A coluna da esquerda apresenta algumas perguntas uma entrevista dada pela diretora da Nielsen Neuro para a Revista *Época*. Numere a coluna da direita, relacionando as respostas com as respectivas perguntas.

- | | |
|--|---|
| <p>1. As redes sociais aumentaram o sofrimento das pessoas?</p> <p>2. E como se vive neste mundo, no qual nosso sistema nervoso não evoluiu?</p> <p>3. Chegaremos a um equilíbrio entre evolução da espécie e da tecnologia?</p> | <p>() Precisaremos de décadas. Nossa sociedade não sabe lidar com a tecnologia disponível. Hoje já vejo pessoas saindo de redes sociais para ter mais qualidade na vida.</p> <p>() Em alguns aspectos, sim. Tudo depende do uso e da faixa etária. A má notícia é a seguinte: o cérebro que temos evoluiu no meio do mato, sem geladeira, supermercado ou smartphone. Ele não está acostumado a lidar com esse monte de opções. Lá atrás, seu cérebro não tinha de lidar com a incerteza sobre a reação de outra pessoa quando se fala alguma coisa no mundo virtual.</p> <p>() Se você é uma criança, ou um adolescente, não deveria ter acesso a tudo o que o mundo virtual oferece. Não tem cabimento uma criança levar smartphone para a escola. Hoje o bullying vai com a criança para casa porque o WhatsApp vai para casa. Já um adulto deveria saber gastar o tempo físico sem deixar que o mundo virtual diminua a qualidade desse tempo.</p> |
|--|---|

Assinale a alternativa que apresenta a sequência correta, de cima para baixo.

- a) 2 – 1 – 3.
 b) 3 – 2 – 1.
 c) 2 – 3 – 1.
 d) 1 – 2 – 3.
 ► e) 3 – 1 – 2.

O texto a seguir é referência para as questões 06 a 08.

Com facas e panelas, supermercados expandem troca de selinho por prêmio

As campanhas de fidelização de clientes com troca de selinhos por prêmios em supermercados viraram febre e devem avançar neste ano para além das panelas e facas.

Uma das maiores empresas nesse segmento, a BrandLoyalty, que tem entre seus clientes o Pão de Açúcar e o Extra, calcula ter movimentado 760 milhões de selos, trocados por cerca de 8 milhões de produtos como facas, panelas e outros.

De origem holandesa, a BrandLoyalty afirma que já tem o Brasil como seu quinto mercado de maior faturamento atualmente e que, neste mês, Pão de Açúcar, Extra e Muffato abrem novas temporadas de prêmios.

Nos cerca de 60 países em que desenvolve suas campanhas, a BrandLoyalty já fez programas semelhantes, distribuindo bichinhos de pelúcia, álbuns de figurinhas, panelas e refratários.

Segundo a empresa, o Pão de Açúcar distribuiu no ano passado mais de 800 mil panelas Fontignac, que foram trocadas por mais de 90 milhões de selos. O Extra, cuja campanha ofereceu facas da marca Royal VKB, movimentou mais de 260 milhões de selinhos e distribuiu mais de 2 milhões de produtos.

A estratégia está em selecionar produtos que se tornem desejados pelo público-alvo ao longo de, em média, 18 semanas de compras. E é preciso fazer gestão de segurança. Os selinhos adesivos são impressos no exterior e numerados individualmente para evitar fraudes, com sistema de rastreamento do código de cada uma das unidades.

(Disponível em: <<https://www1.folha.uol.com.br/colunas/painelsa/2019/03/com-facas-e-panelas-supermercados-expandem-troca-de-selinho-por-premio.shtml>>. Acesso em: 25 mar. 2019)

06 - Com base no texto, considere as seguintes afirmativas:

1. Os clientes dos supermercados recebem os selos de acordo com as compras que realizam.
2. Pão de Açúcar, Extra e Muffato vão expandir a troca de selos por prêmios em cerca de 60 países.
3. As campanhas com troca de selinhos por prêmios têm o objetivo de promover a venda de facas e panelas.

Está/Estão de acordo com o texto a(s) afirmativa(s):

- a) 1 apenas.
 b) 2 apenas.
 c) 1 e 3 apenas.
 d) 2 e 3 apenas.
 e) 1, 2 e 3.

07 - Os selos utilizados nas campanhas de fidelização são fornecidos às empresas por:

- a) Fontignac.
 ► b) BrandLoyalty.
 c) Pão de Açúcar.
 d) Extra.
 e) Royal VKB.

08 - O termo “unidades”, destacado na última linha do texto, faz referência a:

- a) produtos que se tornem desejados.
- b) facas da marca Royal VKB.
- ▶ c) selinhos adesivos.
- d) painelas Fontignac.
- e) bichinhos de pelúcia, álbuns de figurinhas, painelas e refratários.

09 - Assinale a alternativa que apresenta a pontuação correta, conforme a língua padrão de escrita.

- ▶ a) Pesquisadores acreditam que um período de aridez obrigou os moradores a abandonarem a Caverna de Ardales, que utilizavam como refúgio, e se deslocarem para uma área com mais água.
- b) Pesquisadores, acreditam que um período de aridez obrigou os moradores a abandonarem a Caverna de Ardales, que utilizavam como refúgio e, se deslocarem para uma área com mais água.
- c) Pesquisadores acreditam que: um período de aridez, obrigou os moradores a abandonarem a Caverna de Ardales que utilizavam como refúgio, e se deslocarem para uma área com mais água.
- d) Pesquisadores, acreditam que um período de aridez, obrigou os moradores a abandonarem a Caverna de Ardales, que utilizavam como refúgio e se deslocarem para uma área com mais água.
- e) Pesquisadores acreditam que, um período de aridez obrigou os moradores a: abandonarem a Caverna de Ardales que utilizavam como refúgio, e se deslocarem para uma área com mais água.

10 - Considere o seguinte início de um texto retirado do jornal *El País* (https://brasil.elpais.com/brasil/2019/04/16/ciencia/1555413116_188030.html):

Os pacientes que consomem maconha regularmente podem precisar de uma sedação duas vezes maior do que o nível habitual quando passam por procedimentos médicos, de acordo com um estudo realizado por pesquisadores no Colorado (EUA).

Numere os parênteses a seguir, identificando a ordem das ideias que dão sequência lógica ao trecho acima.

- () O médico osteopata de medicina interna e principal pesquisador do estudo, Mark Twardowski, afirma que “alguns dos medicamentos sedativos têm efeitos secundários dependendo da dose, o que significa que quanto maior a dose, maior a probabilidade de problemas. Isso se torna particularmente perigoso quando a função respiratória suprimida é um efeito secundário conhecido”.
- () O estudo, publicado no *The Journal of the American Osteopathic Association*, examinou mais de 250 registros médicos de pacientes que receberam procedimentos endoscópicos após 2012, quando o Estado do Colorado legalizou a cannabis recreativa.
- () A equipe do doutor está agora desenvolvendo um estudo de acompanhamento sobre as diferenças nos requisitos de sedação e anestesia, assim como o manejo da dor após o procedimento para os usuários habituais de cannabis em relação aos não usuários.
- () O doutor Twardowski afirma também que “esse estudo realmente marca um pequeno primeiro passo. Ainda não entendemos o mecanismo por trás da necessidade de doses mais altas, o que é importante para encontrar melhores soluções de administração da atenção”.
- () O resultado foi que os pacientes que fumavam ou ingeriam cannabis diária ou semanalmente precisavam 14% a mais de fentanil, 20% a mais de midazolam e 220% a mais de propofol para conseguir uma sedação excelente nos procedimentos de rotina, incluindo a colonoscopia.

Assinale a alternativa que apresenta a numeração correta dos parênteses, de cima para baixo.

- a) 1 – 2 – 5 – 4 – 3.
- b) 3 – 1 – 4 – 5 – 2.
- c) 1 – 3 – 4 – 2 – 5.
- d) 4 – 3 – 1 – 2 – 5.
- ▶ e) 3 – 1 – 5 – 4 – 2.

11 - Considere o seguinte texto:

Se existe vida inteligente fora da Terra, deve estar muito distante – caso contrário já _____ vindo ao nosso planeta. Mas, e se já _____ visitas intergalácticas e não nos _____ conta disso? Para Stephen Hawking, a aparição de OVNI e aliens deveria ser muita mais evidente do que sugere nossa vã ufologia – e, potencialmente, catastrófica. As chances de que formas de vida inteligente _____ espontaneamente é tão baixa que, segundo o cientista, é provável que a Terra seja o único planeta da galáxia em que isso _____. Mas nada impede que muitos outros planetas tenham vida.

Assinale a alternativa que preenche corretamente as lacunas na ordem em que aparecem no texto.

- a) tinha – recebêssemos – déramos – aparecem – aconteceria.
- b) teria – recebamos – damos – aparecerão – acontecerá.
- c) tinha – recebemos – demos – apareceriam – acontece.
- d) teria – recebêssemos – damos – aparecessem – acontecerá.
- ▶ e) teria – recebemos – demos – apareçam – aconteceu.

12 - Considere o seguinte trecho:

Para ter um corpo magro e saudável não basta contar calorias. Os métodos de emagrecimento mais eficazes são aqueles _____ tanto a dieta quanto os exercícios fazem parte da rotina de quem pretende eliminar os quilos extras. A explicação _____ esse combo é mais vantajoso está no fato _____ ele promove uma melhora na saúde como um todo, não só na balança.

Assinale a alternativa que preenche corretamente as lacunas na ordem em que aparecem no texto.

- a) onde – em que – que.
- b) em que – porque – onde.
- c) nos quais – onde – em que.
- ▶ d) em que – por que – de que.
- e) onde – pela qual – por que.

13 - Considere o seguinte trecho:

Mais uma vez foi realizada a tradicional festa do dia do Índio na T.I. Kaxarari, localizada em Extrema de Rondônia, _____ de 400 km de Porto Velho. Com a presença de diversas lideranças indígenas, reuniram-se na aldeia Paxiuba no sábado (20) para atividades culturais e esportivas.

Os estudantes Kaxararis realizaram duas encenações teatrais. Uma contando a lenda do início da formação do povo Kaxarari e seus clãs. Na outra, reportaram a aproximação do homem branco _____ de 80 anos na região do rio Purus em Labrea.

(Disponível em: <http://www.rondoniao vivo.com/geral/noticia/2019/04/23/ti-kaxarari-povo-da-floresta-realiza-evento-cultural-e-esportivo-em-extrema.html>)

Assinale a alternativa que preenche corretamente as lacunas acima, na ordem em que aparecem no texto.

- ▶ a) a cerca – há cerca.
- b) acerca – a cerca.
- c) há cerca – cerca.
- d) cerca – acerca.
- e) há acerca – há cerca.

14 - Assinale a alternativa escrita de acordo com a norma padrão.

- a) As articulações são mais suscetíveis aos sangramentos porque são áreas mais instáveis e estão mais expostas a traumas.
- ▶ b) As regulagens das fileiras segunda e terceira de assentos são feitas também eletricamente, por meio de botões posicionados na lateral do porta-malas.
- c) Na aplicação de uma pequena voltagem de estimulação no cérebro, quando feito durante o sono de jovens adultos saudáveis, é possível ver a ampliação das ondas cerebrais, dobrando os benefícios na retenção de memória e aprendizado.
- d) Embora um ou outro conselho tenham melhorado a sua transparência e disposto algumas coisas a mais no site, nós vemos que ainda há muitas informações que ainda não está presente.
- e) No cardápio é possível encontrar um delicioso menu que prestigia as comidas mexicana e árabe, garantindo ainda um verdadeiro toque brasileiro, que deixam os pratos ainda mais saborosos.

15 - Considere as seguintes afirmativas sobre a charge ao lado:

1. A intenção do autor da charge é criticar a passividade dos telespectadores diante de notícias sobre a violência no esporte.
2. O termo “literalmente” é empregado para desfazer o sentido figurado da expressão “matando por esporte”.
3. A aparência do personagem reflete o estereótipo de um espectador de futebol.

Assinale a alternativa correta.

- a) Somente a afirmativa 1 é verdadeira.
- ▶ b) Somente a afirmativa 2 é verdadeira.
- c) Somente as afirmativas 1 e 3 são verdadeiras.
- d) Somente as afirmativas 2 e 3 são verdadeiras.
- e) As afirmativas 1, 2 e 3 são verdadeiras.



RACIOCÍNIO LÓGICO

16 - No ano de 2018, a Central 156 da Prefeitura de Curitiba registrou 426 mil pedidos de serviços e informações, e o índice de satisfação foi de 79% dos usuários. Suponha que as metas para 2019 sejam: a) ampliar o número de atendimentos em 15%, em relação a 2018; e b) aumentar o índice de satisfação dos usuários para 82%. Se essas metas forem atingidas, qual será o número mínimo de usuários satisfeitos?

- a) 303.756.
- b) 387.021.
- ▶ c) 401.718.
- d) 440.910.
- e) 451.749.

17 - Considere a seguinte sequência de números naturais:

2, 3, 5, 8, 12, 17, 23, 30, ...

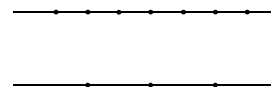
Qual dos números abaixo pertence a essa sequência?

- a) 58.
- b) 66.
- c) 73.
- ▶ d) 80.
- e) 88.

18 - Bia é dois anos mais velha que Ana e quatro anos mais nova que Carla. Sabendo que a soma das idades das três meninas é 35 anos, qual é a idade da menina mais velha?

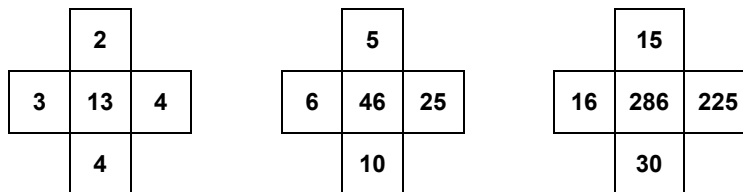
- a) 14 anos.
- ▶ b) 15 anos.
- c) 16 anos.
- d) 17 anos.
- e) 18 anos.

19 - Na figura ao lado há 7 pontos marcados em uma das retas e 3 pontos marcados na outra. Quantos triângulos distintos é possível construir com esses 10 pontos?

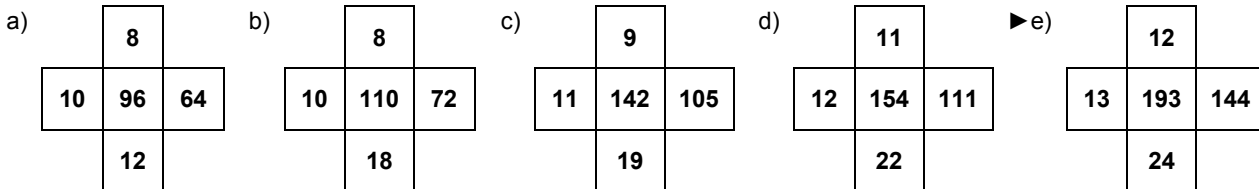


- a) 21.
- b) 35.
- c) 63.
- ▶ d) 84.
- e) 120.

20 - Cada uma das cruzes abaixo foi preenchida com números seguindo um padrão lógico preestabelecido.



Qual das alternativas a seguir respeita esse mesmo padrão lógico?



21 - Considere a seguinte proposição:

“Se você não está confuso, então você não está prestando atenção”.

Qual das proposições abaixo é logicamente equivalente a essa proposição?

- ▶ a) Se você está prestando atenção, então você está confuso.
- b) Se você está confuso, então você está prestando atenção.
- c) Se você está prestando atenção, então você não está confuso.
- d) Se você não está confuso, então você está prestando atenção.
- e) Se você não está prestando atenção, então você não está confuso.

22 - Considere as seguintes afirmações:

- Todos os políticos têm boas intenções;
- Alguns políticos não ouvem a população;
- Alguns políticos não fazem o que a população pede.

A partir dessas afirmações, é correto concluir que:

- a) os políticos que não fazem o que a população pede não têm boas intenções.
- b) alguns políticos não ouvem a população e não fazem o que ela pede.
- c) os políticos que não ouvem a população não fazem o que a população pede.
- d) alguns políticos ouvem a população, mas não fazem o que ela pede.
- ▶ e) os políticos que não ouvem a população têm boas intenções.

23 - Qual das afirmações abaixo é a negação lógica da proposição “Todas as reclamações serão anotadas e nós tomaremos as providências necessárias”?

- a) Todas as reclamações não serão anotadas e nós não tomaremos as providências necessárias.
- b) Algumas reclamações não serão anotadas e nós não tomaremos as providências necessárias.
- c) Algumas reclamações serão anotadas e nós não tomaremos as providências necessárias.
- d) Todas as reclamações serão anotadas e nós não tomaremos as providências necessárias.
- ▶ e) Algumas reclamações não serão anotadas ou nós não tomaremos as providências necessárias.

24 - Dada a expressão $\frac{10}{11} + \frac{12}{13} + \frac{14}{15} + \dots + \frac{48}{49}$, considere as seguintes afirmativas:

1. Nessa soma há 18 parcelas.
2. Cada uma das parcelas é maior que 0,9.
3. A soma de todos os termos dessa expressão é um número maior que 18.

Assinale a alternativa correta.

- a) Somente a afirmativa 1 é verdadeira.
- b) Somente as afirmativas 1 e 2 são verdadeiras.
- c) Somente as afirmativas 1 e 3 são verdadeiras.
- ▶ d) Somente as afirmativas 2 e 3 são verdadeiras.
- e) As afirmativas 1, 2 e 3 são verdadeiras.

25 - Considere as seguintes afirmações:

- Se você não sente algo ao ouvir Bob Marley, então você está morto.
- Se você está morto, então você não pode escolher o que quer ouvir.
- Você pode escolher o que quer ouvir.

A partir dessas afirmações, é correto concluir que você:

- a) não sente nada ao ouvir Bob Marley porque você está morto.
- b) não pode escolher ouvir Bob Marley.
- ▶ c) sente algo ao ouvir Bob Marley.
- d) não sente algo ao ouvir Bob Marley e não pode escolher o que quer ouvir.
- e) não está morto porque sente algo ao ouvir Bob Marley.

LEGISLAÇÃO

26 - Define-se como fluxo luminoso a parcela da potência eletromagnética capaz de sensibilizar o olho humano. Sua unidade é o lúmen, igual à potência visível emitida por 1 cm² de tungstênio aquecido a 1000 °C. Define-se iluminância como a densidade de fluxo luminoso por unidade de área, sendo unidade o lúmen/m² (ou lux). A norma ABNT 9050 estabelece como condições mínimas que toda rota acessível deva ser provida de iluminação natural ou artificial, com nível mínimo de iluminância de:

- a) 50 lux, medido a 1,00 m do chão.
- b) 150 lux, medido sobre o chão, sendo aceitos níveis inferiores de iluminância para alguns ambientes, conforme normas técnicas específicas.
- ▶ c) 150 lux, medido a 1,00 m do chão, sendo aceitos níveis inferiores de iluminância para alguns ambientes, conforme normas técnicas específicas.
- d) 1500 lux, medido sobre o chão, sendo aceitos níveis inferiores de iluminância para alguns ambientes, conforme normas técnicas específicas.
- e) 1500 lux, medido a 1,00 m do chão, sendo aceitos níveis inferiores de iluminância para alguns ambientes, conforme normas técnicas específicas.

27 - No Decreto nº 176/2007, que trata da contenção de cheias, preservando as redes pluviais a jusante de cada propriedade, aparecem dois conceitos importantes: reservatório de detenção e taxa de impermeabilização. Com relação a esses conceitos, considere as seguintes afirmativas:

1. O fluxo de água de chuvas é em parte infiltrado no solo, ou é contido temporariamente em reservatórios de detenção.
2. O volume do reservatório de detenção é calculado de maneira proporcional à área total impermeabilizada do lote.
3. A taxa de impermeabilização se refere ao acabamento das paredes do reservatório.

Assinale a alternativa correta.

- a) Somente a afirmativa 1 é verdadeira.
- b) Somente a afirmativa 3 é verdadeira.
- ▶ c) Somente as afirmativas 1 e 2 são verdadeiras.
- d) Somente as afirmativas 2 e 3 são verdadeiras.
- e) As afirmativas 1, 2 e 3 são verdadeiras.

****28 - Sobre comércio de alimentos de bebidas através de *food truck* em espaços públicos, é INCORRETA a condição de:**

- a) existência de prévia autorização de uso e devido processo de chamamento público.
- b) menção, na constituição da pessoa jurídica interessada, da atividade de serviços ambulantes de alimentação.
- c) comercialização de alimentos e bebidas em estado pronto para consumo.
- d) possibilidade de realocação dos locais autorizados na ocorrência de caso fortuito, força maior, fato de terceiro e demais fatos supervenientes que impeçam a atividade.
- ▶ e) existência autorização dos locais públicos pela Secretaria Municipal do Meio Ambiente e pela Secretaria da Saúde, entre outros órgãos municipais.

29 - A Lei Ordinária nº 1.656/1958, conhecida como Estatuto dos Funcionários Públicos Municipais, enumera direitos, deveres, proibições e responsabilidades do funcionário. A respeito do assunto, assinale a alternativa INCORRETA.

- a) O funcionário deve frequentar cursos legalmente instituídos para aperfeiçoamento ou especialização.
- b) É dever do funcionário, mesmo na ausência de cursos legalmente instituídos para aperfeiçoamento ou especialização, atualizar-se a respeito de leis, legislação e normas que a repartição lhe indicar.
- c) É dever do funcionário comparecer na repartição nas horas de trabalho extraordinário, quando convocado.
- ▶ d) É dever do funcionário reportar ao seu chefe as irregularidades de que tomar conhecimento, num prazo de até 5 dias úteis.
- e) O funcionário deve trajar-se com uniforme em serviço, quando for determinado para cada caso.

30 - A Lei nº 11.596/2005 estabelece que o proprietário de terreno, edificado ou não, situado em via provida de pavimentação deverá construir e manter calçada em toda a extensão da testada do imóvel. Sobre o assunto, assinale a alternativa INCORRETA.

- a) Tal obrigação de construir e manter calçadas vale para pessoas tanto físicas quanto jurídicas.
- b) A obrigação de construção das calçadas é regulamentada pelo Poder Executivo Municipal.
- c) A durabilidade das calçadas deve ser garantida pelo proprietário do terreno por pelo menos 5 anos.
- ▶ d) No Setor Histórico, prevalecerão as diretrizes determinadas pela Fundação Cultural de Curitiba.
- e) Em obras de demolição no alinhamento predial, é exigida do proprietário do terreno a proteção coberta para segurança de pedestres.

CONHECIMENTOS ESPECÍFICOS

31 - A Norma ABNT 9050-2015 define acessibilidade como possibilidade e condição de alcance, percepção e entendimento para utilização (por pessoa com deficiência ou mobilidade reduzida, tanto na zona urbana como na rural), com segurança e autonomia, de:

1. espaços, mobiliários, equipamentos urbanos, edificações, transportes.
2. informação e comunicação, inclusive seus sistemas e tecnologias.
3. outros serviços e instalações abertos ao público, de uso público.

Está/estão correta(s) a(s) afirmativa(s):

- a) 1 apenas.
- b) 2 apenas.
- c) 1 e 3 apenas.
- d) 2 e 3 apenas.
- ▶ e) 1, 2, 3.

32 - Segundo a ABNT 9050/2015, a sinalização tátil e visual no piso deve ser detectável por meio de contraste. O contraste visual é a diferença de luminância entre uma figura e o fundo. A intensidade luminosa da superfície se refere à emissão ou reflexão de fluxo luminoso por unidade de ângulo sólido. Já a luminância é definida como:

- ▶ a) a relação entre intensidade luminosa da superfície e sua área, medida em candela por metro quadrado.
- b) a relação entre a área da superfície e a intensidade luminosa, medida em metro quadrado por candela.
- c) sinônimo da eficiência luminosa.
- d) a divisão da iluminância (em lux) pela área (metros quadrados).
- e) contraste percebido visualmente.

33 - Com base na Lei nº 11.095/2004, considere os seguintes itens:

1. Implantação ou rebaixamento de meio-fio (guias).
2. Poda de árvores no interior da propriedade.
3. Colocação de tapume, estande de vendas, caçambas.
4. Implantação de publicidade.

É/São item(ns) para emissão obrigatória do alvará de licença, expedido pela Prefeitura Municipal de Curitiba:

- a) 4 apenas.
- b) 1 e 2 apenas.
- c) 2 e 3 apenas.
- ▶ d) 1, 3 e 4 apenas.
- e) 1, 2, 3 e 4.

****Questão com resposta alterada.**

34 - De acordo com a Lei nº 11.094/2004, de Curitiba, os proprietários de imóvel com obra paralisada por mais de 30 dias, ou em ruínas, que possibilite a sua ocupação irregular, ficam obrigados a executar a vedação do terreno no alinhamento da via pública, bem como proceder ao lacramento das vias de acesso ao imóvel. Sobre o assunto, assinale a alternativa INCORRETA.

- a) A obrigação acima enunciada é para pessoas jurídicas de direito público e privado.
- ▶ b) Durante o período de paralisação, a vigilância ostensiva será fornecida pelo poder público.
- c) O prazo de 30 dias poderá ser prorrogado por mais 120 (cento e vinte) dias no caso de único imóvel, destinado à moradia, em que a paralisação tenha ocorrido por força de diminuição de renda familiar.
- d) Tratando-se de ruína iminente, a obra deverá ser demolida a bem da segurança pública, no prazo determinado pela Comissão de Segurança, sujeitando-se o proprietário às penalidades previstas em lei, na hipótese de descumprimento.
- e) No caso de imóveis cadastrados como de Valor Cultural ou em Sítios Históricos, será ouvido o órgão competente, em atendimento às normas legais pertinentes, sem prejuízo à vedação e ao lacramento necessários.

35 - De acordo com a Lei nº 6.766/1979, o parcelamento do solo urbano poderá ser feito mediante loteamento (subdivisão de gleba em lotes destinados à edificação, com abertura de novas vias de circulação, de logradouros públicos ou prolongamento, modificação ou ampliação das vias existentes) ou desmembramento (subdivisão de gleba em lotes destinados à edificação, com aproveitamento do sistema viário existente). Sobre o assunto, considere as seguintes condições:

1. Terrenos alagadiços e sujeitos a inundações, antes de tomadas as providências para assegurar o escoamento das águas.
2. Terrenos que tenham sido aterrados com material nocivo à saúde pública, sem que sejam previamente saneados.
3. Terrenos com declividade igual ou superior a 20% (vinte por cento), salvo se atendidas exigências específicas das autoridades competentes.
4. Áreas de preservação de patrimônio histórico.

É correto afirmar que o parcelamento de solo é proibido em:

- ▶ a) 1 e 2 apenas.
- b) 1 e 4 apenas.
- c) 3 e 4 apenas.
- d) 2, 3 e 4 apenas.
- e) 1, 2, 3 e 4.

36 - O Estatuto da Cidade estabelece normas de ordem pública e interesse social que regulam o uso da propriedade urbana em prol do bem coletivo, da segurança e do bem-estar dos cidadãos, assim como do equilíbrio ambiental. Com base nesse documento, é correto afirmar:

- a) O Estatuto da Cidade poderá determinar parcelamento, edificação e utilização compulsórios do solo urbano não edificado, subutilizado ou não utilizado, fixando condições e prazos para implementação da referida obrigação.
- b) Considera-se subutilizado o imóvel cujo aproveitamento seja inferior ao mínimo definido no Estatuto da Cidade.
- ▶ c) Os prazos de parcelamento, edificação ou utilização compulsórios do solo urbano não edificado, subutilizado ou não utilizado não são interrompidos ou modificados pela transmissão do imóvel por ato intervivos ou *causa mortis* posterior à data da notificação.
- d) O proprietário de imóvel considerado subutilizado será notificado pela Guarda Municipal para o cumprimento da obrigação do parcelamento quando lei municipal específica o decidir.
- e) Em caso de descumprimento da obrigação de parcelamento ou edificação ou utilização compulsórios, o Município procederá à aplicação de acréscimo no imposto sobre a propriedade predial e territorial urbana (IPTU) em valor constante no tempo.

37 - De acordo com a Constituição Federal, incumbe ao poder público, na forma da lei, diretamente ou sob regime de concessão ou permissão, sempre através de licitação, a prestação de serviços públicos. A Lei Federal nº 8.987/1995 trata das concessões de serviços públicos e de obras públicas e das permissões de serviços públicos, estabelecendo que toda concessão ou permissão pressupõe a prestação de serviço adequado ao pleno atendimento dos usuários. Em face disso, sabendo que o transporte coletivo é um serviço que, no Município de Curitiba, é realizado por empresas concessionárias, considere as seguintes afirmativas:

1. Em relação aos ônibus com motor de explosão interna, os ônibus elétricos disponíveis no início de 2018 já eram notavelmente menos poluentes, e os custos de aquisição e operação, inclusive energia, já eram compatíveis com os daqueles, em especial tendo em vista a atual baixa taxa de juros da economia, viabilizando o investimento inicial pelas empresas
2. As empresas têm sido recorrentemente cobradas pela sociedade no sentido de apresentarem planilhas atualizadas de custos.
3. A manutenção periódica dos ônibus implica a segurança dos passageiros, dos motoristas, dos transeuntes e outros motoristas, e está relacionada à poluição do ar no caso de motores de explosão interna.
4. Ônibus com motor à explosão estão sujeitos a falhas técnicas, decorrentes de má qualidade dos combustíveis, que com frequência causam panes tais que lhes obrigam a pequenas paradas, atrasando o cronograma.

Tratam do princípio da atualidade as situações descritas em:

- a) 1 apenas.
- b) 1 e 3 apenas.
- c) 2 e 3 apenas.
- ▶ d) 1, 2 e 4 apenas.
- e) 1, 2, 3 e 4.

38 - O Estatuto da Cidade estabelece normas para usucapião especial de imóvel urbano. Sobre o assunto, é INCORRETO afirmar:

- a) O usucapião urbano se aplica àquele que possuir área ou edificação urbana até 250 m², por cinco anos ininterruptamente e sem oposição, utilizando-a para sua moradia ou de sua família.
- b) O usucapião urbano é permitido a quem não for proprietário de outro imóvel urbano ou rural.
- c) O herdeiro legítimo continua com pleno direito à posse do seu antecessor, desde que já resida no imóvel por ocasião da abertura da sucessão.
- d) São partes legítimas para a propositura da ação de usucapião especial urbana o possuidor ou os possuidores em estado de comosse, ou a associação de moradores da comunidade regularmente constituída, com personalidade jurídica, se explicitamente autorizada pelos representados.
- ▶ e) O usucapião se aplica a núcleo urbano informal cuja área, subtraídas as áreas de uso comum, dividida pelo número de possuidores, seja de até 250 m² por possuidor.

39 - De acordo com a norma ABNT 6492, a planta da edificação é uma vista superior do plano secante horizontal a partir de um ponto:

- ▶ a) a aproximadamente 1,50 m acima do piso em referência.
- b) a 1,0 m acima do piso em referência.
- c) imediatamente abaixo do teto.
- d) elevado acima do plano de cobertura da edificação.
- e) de vista correspondente a um observador em pé de frente ao centro da fachada principal.

40 - Com relação aos tamanhos de papel utilizados para representação em desenhos técnicos, que compreendem os de arquitetura utilizados como documentos para aprovação de projetos e outros procedimentos realizados pelo poder público municipal, é correto afirmar:

- a) Nas folhas de formatos de série "A", devem ser executadas quatro marcas de centros, localizadas no final da linha de simetria horizontal à folha.
- b) A4 tem o dobro da área de A3, A3 o dobro de A2, e assim sucessivamente.
- c) As folhas de desenho com forma quadrada são permitidas quando a sua área for idêntica à de um dos formatos de A0 a A4.
- d) A legenda, com dimensões pré-definidas pela norma NBR 10068, é aplicada no canto inferior esquerdo do desenho, dentro das margens.
- ▶ e) O retângulo formado pelas margens tem dimensões maior e menor relacionadas pelo fator 1,414.