



PREFEITURA MUNICIPAL DE CURITIBA

Concurso Público – Edital nº 01/2019

Prova Objetiva – 28/04/2019



INSCRIÇÃO	TURMA	NOME DO CANDIDATO	ORDEM
ASSINO DECLARANDO QUE LI E COMPREENDI AS INSTRUÇÕES ABAIXO:			

401 – Fiscal

INSTRUÇÕES

1. Confira, acima, o seu número de inscrição, turma e nome. Assine no local indicado.
2. Aguarde autorização para abrir o caderno de prova.
3. Antes de iniciar a prova, confira a numeração de todas as páginas.
4. A prova desta fase é composta de 40 questões objetivas.
5. Nesta prova, as questões são de múltipla escolha, com 5 (cinco) alternativas cada uma, sempre na sequência **a, b, c, d, e**, das quais somente uma deve ser assinalada.
6. A interpretação das questões é parte do processo de avaliação, não sendo permitidas perguntas aos aplicadores de prova.
7. Ao receber o cartão-resposta, examine-o e verifique se o nome nele impresso corresponde ao seu. Caso haja irregularidade, comunique-a imediatamente ao aplicador de prova.
8. O cartão-resposta deverá ser preenchido com caneta esferográfica preta, tendo-se o cuidado de não ultrapassar o limite do espaço para cada marcação.
9. O tempo de resolução das questões, incluindo o tempo para preenchimento do cartão-resposta, é de 4 (quatro) horas.
10. Não será permitido ao candidato:
 - a) Manter em seu poder relógios e qualquer tipo de aparelho eletrônico ou objeto identificável pelo detector de metais. Tais aparelhos deverão ser DESLIGADOS e colocados OBRIGATORIAMENTE dentro do saco plástico, que deverá ser acomodado embaixo da carteira ou no chão. É vedado também o porte de armas.
 - b) Usar bonés, gorros, chapéus ou quaisquer outros acessórios que cubram as orelhas, ressalvo o disposto nos itens 6.6.3 e 6.6.3.1.
 - c) Usar fone ou qualquer outro dispositivo no ouvido. O uso de tais dispositivos somente será permitido quando indicado para o atendimento especial.
 - d) Levar líquidos, exceto se a garrafa for transparente e sem rótulo.
 - e) Comunicar-se com outro candidato, usar calculadora e dispositivos similares, livros, anotações, régua de cálculo, impressos ou qualquer outro material de consulta.
 - f) Portar carteira de documentos/dinheiro ou similares.
 - g) Usar óculos escuros, ressalvados os de grau, quando expressamente por recomendação médica, devendo o candidato, então, respeitar o subitem 6.6.5 do Edital.
 - h) Emprestar ou tomar emprestados materiais para realização das provas.
 - i) Ausentar-se da sala de provas sem o acompanhamento do fiscal, antes do tempo mínimo de permanência estabelecido no item 9.16 ou ainda não permanecer na sala conforme estabelecido no item 9.20 do Edital.
 - j) Fazer anotação de informações relativas às suas respostas (copiar gabarito) fora dos meios permitidos.

Caso alguma dessas exigências seja descumprida, o candidato será excluído do processo seletivo.

11. Será ainda excluído do Concurso Público o candidato que:

- a) Lançar mão de meios ilícitos para executar as provas.
 - b) Ausentar-se da sala de provas portando as Folhas de Respostas e/ou Cadernos de Questões, conforme o item 9.19 e 9.21.b do Edital.
 - c) Perturbar, de qualquer modo, a ordem dos trabalhos e/ou agir com descortesia em relação a qualquer dos examinadores, executores e seus auxiliares, ou autoridades presentes.
 - d) Não cumprir as instruções contidas no Caderno de Questões de provas e nas Folhas de Respostas.
 - e) Não permitir a coleta de sua assinatura.
 - f) Não se submeter ao sistema de identificação por digital e detecção de metal.
12. Ao concluir a prova, permaneça em seu lugar e comunique ao aplicador de prova. Aguarde autorização para entregar o caderno de prova e o cartão-resposta.
13. Se desejar, anote as respostas no quadro disponível no verso desta folha, recorte na linha indicada e leve-o consigo.

DURAÇÃO DESTA PROVA: 4 horas.

Língua Portuguesa

Raciocínio Lógico

Informática

Legislação

✂

RESPOSTAS

01 -	06 -	11 -	16 -	21 -	26 -	31 -	36 -
02 -	07 -	12 -	17 -	22 -	27 -	32 -	37 -
03 -	08 -	13 -	18 -	23 -	28 -	33 -	38 -
04 -	09 -	14 -	19 -	24 -	29 -	34 -	39 -
05 -	10 -	15 -	20 -	25 -	30 -	35 -	40 -

LÍNGUA PORTUGUESA

O texto abaixo é referência para as questões 01 a 03.

Em ensaio, a jornalista Alice Fishburn comenta sua decisão de consagrar um ano _____ leitura exclusiva de mulheres. A sua iniciativa ganhou corpo _____ partir da observação do sistema de pontuação que seu irmão mais novo havia criado para se motivar _____ ler mulheres e outras minorias.

Segundo a autora, as regras do irmão funcionavam da seguinte forma: “Pela leitura de uma mulher, ele receberia um ponto. Por cada escritor vivo, outro ponto. Se a mulher estivesse viva, ele receberia dois pontos, enquanto a leitura de um autor falecido lhe custaria igual pontuação. Seu objetivo era conseguir manter um total acumulado de zero ou superar essa pontuação. Mas, para isso, ele sentia dificuldades”.

Impressionada com tamanha disciplina, Fishburn, que se define feminista, viu-se obrigada _____ confrontar a precariedade das suas próprias estantes, questionando quão difícil seria, em nossa época, ter notícias do trabalho de escritoras antigas e contemporâneas.

Ela surpreendeu-se **ao constatar que, apesar de todo o seu feminismo, a sua lista de leituras do ano anterior resumia-se _____ títulos de “literatura vitoriana e testosterona”.**

(Disponível em: <https://www1.folha.uol.com.br/colunas/juliana-de-albuquerque/2019/03/por-que-ler-mulheres.shtml>, acesso em 13, mar. 2019.)

01 - Assinale a alternativa que completa as lacunas acima, na ordem em que aparecem no texto.

- a) à – à – a – a – a.
- ▶ b) à – a – a – a – a.
- c) a – a – à – à – a.
- d) a – à – à – à – à.
- e) à – a – a – a – à.

02 - Sobre o texto, é correto afirmar que a jornalista:

- a) foi influenciada por seu irmão, pois sabia que lia poucos livros escritos por mulheres.
- b) passou a ler mais títulos de escritoras mulheres, pois estes valiam mais pontos no sistema de seu irmão.
- ▶ c) constatou que, apesar de feminista, tinha lido poucos títulos de autoria de mulheres.
- d) percebeu que suas estantes estavam muito vazias.
- e) tinha como gênero preferido a literatura vitoriana e de testosterona.

03 - A sentença destacada no último parágrafo estabelece com a informação anterior uma relação de:

- a) restrição.
- b) condição.
- c) consequência.
- ▶ d) temporalidade.
- e) finalidade.

04 - Leia o seguinte trecho:

Em seu recurso, o autor alegou que sua mãe não tem condições de sustentá-lo, pois está desempregada. Seu pai, apesar de efetuar alguns depósitos, os faz fora do prazo e em valores inferiores ao que foi combinado. Segundo o autor, sua avó paterna recebe pensão e tem responsabilidade complementar em relação a seu pai, devendo, assim, arcar com seus alimentos, porém a avó diz _____.

(Disponível em: <https://correio-forense.jusbrasil.com.br/noticias/660444788/>. Acesso em 12 de abril. 2019)

Para completar a lacuna final, considere as seguintes possibilidades:

1. não lhe poder fazer.
2. não poder fazer isso.
3. não podê-lo fazer.
4. não poder o fazer.
5. não poder fazê-lo.
6. não o poder fazer.
7. não poder fazer-lhe.

Completam corretamente a lacuna:

- a) 4 e 6.
- b) 1, 3 e 5.
- c) 1, 2 e 7.
- ▶ d) 2, 5 e 6.
- e) 3, 4 e 7.

05 - A coluna da esquerda apresenta algumas perguntas uma entrevista dada pela diretora da Nielsen Neuro para a Revista *Época*. Numere a coluna da direita, relacionando as respostas com as respectivas perguntas.

- | | |
|--|---|
| <p>1. As redes sociais aumentaram o sofrimento das pessoas?</p> <p>2. E como se vive neste mundo, no qual nosso sistema nervoso não evoluiu?</p> <p>3. Chegaremos a um equilíbrio entre evolução da espécie e da tecnologia?</p> | <p>() Precisaremos de décadas. Nossa sociedade não sabe lidar com a tecnologia disponível. Hoje já vejo pessoas saindo de redes sociais para ter mais qualidade na vida.</p> <p>() Em alguns aspectos, sim. Tudo depende do uso e da faixa etária. A má notícia é a seguinte: o cérebro que temos evoluiu no meio do mato, sem geladeira, supermercado ou smartphone. Ele não está acostumado a lidar com esse monte de opções. Lá atrás, seu cérebro não tinha de lidar com a incerteza sobre a reação de outra pessoa quando se fala alguma coisa no mundo virtual.</p> <p>() Se você é uma criança, ou um adolescente, não deveria ter acesso a tudo o que o mundo virtual oferece. Não tem cabimento uma criança levar smartphone para a escola. Hoje o bullying vai com a criança para casa porque o WhatsApp vai para casa. Já um adulto deveria saber gastar o tempo físico sem deixar que o mundo virtual diminua a qualidade desse tempo.</p> |
|--|---|

Assinale a alternativa que apresenta a sequência correta, de cima para baixo.

- a) 2 – 1 – 3.
 b) 3 – 2 – 1.
 c) 2 – 3 – 1.
 d) 1 – 2 – 3.
 ► e) 3 – 1 – 2.

O texto a seguir é referência para as questões 06 a 08.

Com facas e panelas, supermercados expandem troca de selinho por prêmio

As campanhas de fidelização de clientes com troca de selinhos por prêmios em supermercados viraram febre e devem avançar neste ano para além das panelas e facas.

Uma das maiores empresas nesse segmento, a BrandLoyalty, que tem entre seus clientes o Pão de Açúcar e o Extra, calcula ter movimentado 760 milhões de selos, trocados por cerca de 8 milhões de produtos como facas, panelas e outros.

De origem holandesa, a BrandLoyalty afirma que já tem o Brasil como seu quinto mercado de maior faturamento atualmente e que, neste mês, Pão de Açúcar, Extra e Muffato abrem novas temporadas de prêmios.

Nos cerca de 60 países em que desenvolve suas campanhas, a BrandLoyalty já fez programas semelhantes, distribuindo bichinhos de pelúcia, álbuns de figurinhas, panelas e refratários.

Segundo a empresa, o Pão de Açúcar distribuiu no ano passado mais de 800 mil panelas Fontignac, que foram trocadas por mais de 90 milhões de selos. O Extra, cuja campanha ofereceu facas da marca Royal VKB, movimentou mais de 260 milhões de selinhos e distribuiu mais de 2 milhões de produtos.

A estratégia está em selecionar produtos que se tornem desejados pelo público-alvo ao longo de, em média, 18 semanas de compras. E é preciso fazer gestão de segurança. Os selinhos adesivos são impressos no exterior e numerados individualmente para evitar fraudes, com sistema de rastreamento do código de cada uma das unidades.

(Disponível em: <<https://www1.folha.uol.com.br/colunas/painelsa/2019/03/com-facas-e-panelas-supermercados-expandem-troca-de-selinho-por-premio.shtml>>. Acesso em: 25 mar. 2019)

06 - Com base no texto, considere as seguintes afirmativas:

1. Os clientes dos supermercados recebem os selos de acordo com as compras que realizam.
2. Pão de Açúcar, Extra e Muffato vão expandir a troca de selos por prêmios em cerca de 60 países.
3. As campanhas com troca de selinhos por prêmios têm o objetivo de promover a venda de facas e panelas.

Está/Estão de acordo com o texto a(s) afirmativa(s):

- a) 1 apenas.
 b) 2 apenas.
 c) 1 e 3 apenas.
 d) 2 e 3 apenas.
 e) 1, 2 e 3.

07 - Os selos utilizados nas campanhas de fidelização são fornecidos às empresas por:

- a) Fontignac.
 ► b) BrandLoyalty.
 c) Pão de Açúcar.
 d) Extra.
 e) Royal VKB.

08 - O termo “unidades”, destacado na última linha do texto, faz referência a:

- a) produtos que se tornem desejados.
- b) facas da marca Royal VKB.
- ▶ c) selinhos adesivos.
- d) painelas Fontignac.
- e) bichinhos de pelúcia, álbuns de figurinhas, painelas e refratários.

09 - Assinale a alternativa que apresenta a pontuação correta, conforme a língua padrão de escrita.

- ▶ a) Pesquisadores acreditam que um período de aridez obrigou os moradores a abandonarem a Caverna de Ardales, que utilizavam como refúgio, e se deslocarem para uma área com mais água.
- b) Pesquisadores, acreditam que um período de aridez obrigou os moradores a abandonarem a Caverna de Ardales, que utilizavam como refúgio e, se deslocarem para uma área com mais água.
- c) Pesquisadores acreditam que: um período de aridez, obrigou os moradores a abandonarem a Caverna de Ardales que utilizavam como refúgio, e se deslocarem para uma área com mais água.
- d) Pesquisadores, acreditam que um período de aridez, obrigou os moradores a abandonarem a Caverna de Ardales, que utilizavam como refúgio e se deslocarem para uma área com mais água.
- e) Pesquisadores acreditam que, um período de aridez obrigou os moradores a: abandonarem a Caverna de Ardales que utilizavam como refúgio, e se deslocarem para uma área com mais água.

10 - Considere o seguinte início de um texto retirado do jornal *El País* (https://brasil.elpais.com/brasil/2019/04/16/ciencia/1555413116_188030.html):

Os pacientes que consomem maconha regularmente podem precisar de uma sedação duas vezes maior do que o nível habitual quando passam por procedimentos médicos, de acordo com um estudo realizado por pesquisadores no Colorado (EUA).

Numere os parênteses a seguir, identificando a ordem das ideias que dão sequência lógica ao trecho acima.

- () O médico osteopata de medicina interna e principal pesquisador do estudo, Mark Twardowski, afirma que “alguns dos medicamentos sedativos têm efeitos secundários dependendo da dose, o que significa que quanto maior a dose, maior a probabilidade de problemas. Isso se torna particularmente perigoso quando a função respiratória suprimida é um efeito secundário conhecido”.
- () O estudo, publicado no *The Journal of the American Osteopathic Association*, examinou mais de 250 registros médicos de pacientes que receberam procedimentos endoscópicos após 2012, quando o Estado do Colorado legalizou a cannabis recreativa.
- () A equipe do doutor está agora desenvolvendo um estudo de acompanhamento sobre as diferenças nos requisitos de sedação e anestesia, assim como o manejo da dor após o procedimento para os usuários habituais de cannabis em relação aos não usuários.
- () O doutor Twardowski afirma também que “esse estudo realmente marca um pequeno primeiro passo. Ainda não entendemos o mecanismo por trás da necessidade de doses mais altas, o que é importante para encontrar melhores soluções de administração da atenção”.
- () O resultado foi que os pacientes que fumavam ou ingeriam cannabis diária ou semanalmente precisavam 14% a mais de fentanil, 20% a mais de midazolam e 220% a mais de propofol para conseguir uma sedação excelente nos procedimentos de rotina, incluindo a colonoscopia.

Assinale a alternativa que apresenta a numeração correta dos parênteses, de cima para baixo.

- a) 1 – 2 – 5 – 4 – 3.
- b) 3 – 1 – 4 – 5 – 2.
- c) 1 – 3 – 4 – 2 – 5.
- d) 4 – 3 – 1 – 2 – 5.
- ▶ e) 3 – 1 – 5 – 4 – 2.

11 - Considere o seguinte texto:

Se existe vida inteligente fora da Terra, deve estar muito distante – caso contrário já _____ vindo ao nosso planeta. Mas, e se já _____ visitas intergalácticas e não nos _____ conta disso? Para Stephen Hawking, a aparição de OVNI e aliens deveria ser muita mais evidente do que sugere nossa vã ufologia – e, potencialmente, catastrófica. As chances de que formas de vida inteligente _____ espontaneamente é tão baixa que, segundo o cientista, é provável que a Terra seja o único planeta da galáxia em que isso _____. Mas nada impede que muitos outros planetas tenham vida.

Assinale a alternativa que preenche corretamente as lacunas na ordem em que aparecem no texto.

- a) tinha – recebêssemos – déramos – aparecem – aconteceria.
- b) teria – recebamos – damos – aparecerão – acontecerá.
- c) tinha – recebemos – demos – apareceriam – acontece.
- d) teria – recebêssemos – damos – aparecessem – acontecerá.
- ▶ e) teria – recebemos – demos – apareçam – aconteceu.

12 - Considere o seguinte trecho:

Para ter um corpo magro e saudável não basta contar calorias. Os métodos de emagrecimento mais eficazes são aqueles _____ tanto a dieta quanto os exercícios fazem parte da rotina de quem pretende eliminar os quilos extras. A explicação _____ esse combo é mais vantajoso está no fato _____ ele promove uma melhora na saúde como um todo, não só na balança.

Assinale a alternativa que preenche corretamente as lacunas na ordem em que aparecem no texto.

- a) onde – em que – que.
- b) em que – porque – onde.
- c) nos quais – onde – em que.
- ▶ d) em que – por que – de que.
- e) onde – pela qual – por que.

13 - Considere o seguinte trecho:

Mais uma vez foi realizada a tradicional festa do dia do Índio na T.I. Kaxarari, localizada em Extrema de Rondônia, _____ de 400 km de Porto Velho. Com a presença de diversas lideranças indígenas, reuniram-se na aldeia Paxiuba no sábado (20) para atividades culturais e esportivas.

Os estudantes Kaxararis realizaram duas encenações teatrais. Uma contando a lenda do início da formação do povo Kaxarari e seus clãs. Na outra, reportaram a aproximação do homem branco _____ de 80 anos na região do rio Purus em Labrea.

(Disponível em: <http://www.rondoniao vivo.com/geral/noticia/2019/04/23/ti-kaxarari-povo-da-floresta-realiza-evento-cultural-e-esportivo-em-extrema.html>)

Assinale a alternativa que preenche corretamente as lacunas acima, na ordem em que aparecem no texto.

- ▶ a) a cerca – há cerca.
- b) acerca – a cerca.
- c) há cerca – cerca.
- d) cerca – acerca.
- e) há acerca – há cerca.

14 - Assinale a alternativa escrita de acordo com a norma padrão.

- a) As articulações são mais suscetíveis aos sangramentos porque são áreas mais instáveis e estão mais expostas a traumas.
- ▶ b) As regulagens das fileiras segunda e terceira de assentos são feitas também eletricamente, por meio de botões posicionados na lateral do porta-malas.
- c) Na aplicação de uma pequena voltagem de estimulação no cérebro, quando feito durante o sono de jovens adultos saudáveis, é possível ver a ampliação das ondas cerebrais, dobrando os benefícios na retenção de memória e aprendizado.
- d) Embora um ou outro conselho tenham melhorado a sua transparência e disposto algumas coisas a mais no site, nós vemos que ainda há muitas informações que ainda não está presente.
- e) No cardápio é possível encontrar um delicioso menu que prestigia as comidas mexicana e árabe, garantindo ainda um verdadeiro toque brasileiro, que deixam os pratos ainda mais saborosos.

15 - Considere as seguintes afirmativas sobre a charge ao lado:

1. A intenção do autor da charge é criticar a passividade dos telespectadores diante de notícias sobre a violência no esporte.
2. O termo “literalmente” é empregado para desfazer o sentido figurado da expressão “matando por esporte”.
3. A aparência do personagem reflete o estereótipo de um espectador de futebol.

Assinale a alternativa correta.

- a) Somente a afirmativa 1 é verdadeira.
- ▶ b) Somente a afirmativa 2 é verdadeira.
- c) Somente as afirmativas 1 e 3 são verdadeiras.
- d) Somente as afirmativas 2 e 3 são verdadeiras.
- e) As afirmativas 1, 2 e 3 são verdadeiras.

**RACIOCÍNIO LÓGICO**

16 - No ano de 2018, a Central 156 da Prefeitura de Curitiba registrou 426 mil pedidos de serviços e informações, e o índice de satisfação foi de 79% dos usuários. Suponha que as metas para 2019 sejam: a) ampliar o número de atendimentos em 15%, em relação a 2018; e b) aumentar o índice de satisfação dos usuários para 82%. Se essas metas forem atingidas, qual será o número mínimo de usuários satisfeitos?

- a) 303.756.
- b) 387.021.
- ▶ c) 401.718.
- d) 440.910.
- e) 451.749.

17 - Considere a seguinte sequência de números naturais:

2, 3, 5, 8, 12, 17, 23, 30, ...

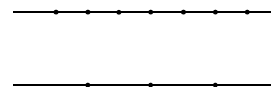
Qual dos números abaixo pertence a essa sequência?

- a) 58.
- b) 66.
- c) 73.
- ▶ d) 80.
- e) 88.

18 - Bia é dois anos mais velha que Ana e quatro anos mais nova que Carla. Sabendo que a soma das idades das três meninas é 35 anos, qual é a idade da menina mais velha?

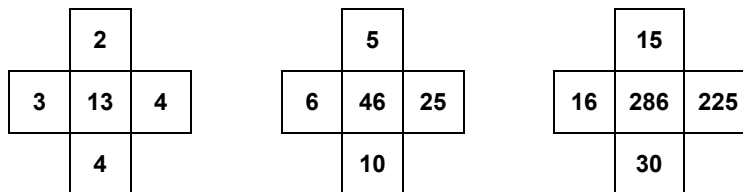
- a) 14 anos.
- ▶ b) 15 anos.
- c) 16 anos.
- d) 17 anos.
- e) 18 anos.

19 - Na figura ao lado há 7 pontos marcados em uma das retas e 3 pontos marcados na outra. Quantos triângulos distintos é possível construir com esses 10 pontos?

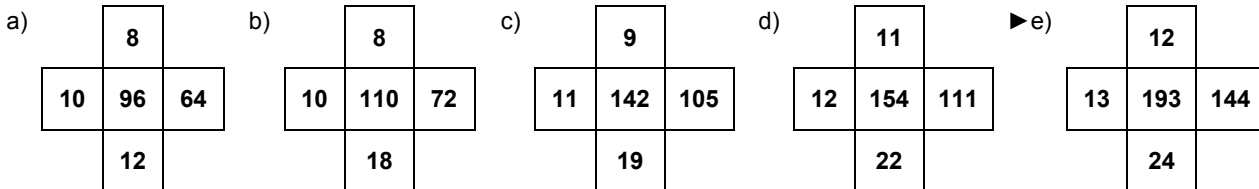


- a) 21.
- b) 35.
- c) 63.
- ▶ d) 84.
- e) 120.

20 - Cada uma das cruzes abaixo foi preenchida com números seguindo um padrão lógico preestabelecido.



Qual das alternativas a seguir respeita esse mesmo padrão lógico?



21 - Considere a seguinte proposição:

“Se você não está confuso, então você não está prestando atenção”.

Qual das proposições abaixo é logicamente equivalente a essa proposição?

- ▶ a) Se você está prestando atenção, então você está confuso.
- b) Se você está confuso, então você está prestando atenção.
- c) Se você está prestando atenção, então você não está confuso.
- d) Se você não está confuso, então você está prestando atenção.
- e) Se você não está prestando atenção, então você não está confuso.

22 - Considere as seguintes afirmações:

- Todos os políticos têm boas intenções;
- Alguns políticos não ouvem a população;
- Alguns políticos não fazem o que a população pede.

A partir dessas afirmações, é correto concluir que:

- a) os políticos que não fazem o que a população pede não têm boas intenções.
- b) alguns políticos não ouvem a população e não fazem o que ela pede.
- c) os políticos que não ouvem a população não fazem o que a população pede.
- d) alguns políticos ouvem a população, mas não fazem o que ela pede.
- ▶ e) os políticos que não ouvem a população têm boas intenções.

23 - Qual das afirmações abaixo é a negação lógica da proposição “Todas as reclamações serão anotadas e nós tomaremos as providências necessárias”?

- a) Todas as reclamações não serão anotadas e nós não tomaremos as providências necessárias.
- b) Algumas reclamações não serão anotadas e nós não tomaremos as providências necessárias.
- c) Algumas reclamações serão anotadas e nós não tomaremos as providências necessárias.
- d) Todas as reclamações serão anotadas e nós não tomaremos as providências necessárias.
- ▶ e) Algumas reclamações não serão anotadas ou nós não tomaremos as providências necessárias.

24 - Dada a expressão $\frac{10}{11} + \frac{12}{13} + \frac{14}{15} + \dots + \frac{48}{49}$, considere as seguintes afirmativas:

1. Nessa soma há 18 parcelas.
2. Cada uma das parcelas é maior que 0,9.
3. A soma de todos os termos dessa expressão é um número maior que 18.

Assinale a alternativa correta.

- a) Somente a afirmativa 1 é verdadeira.
- b) Somente as afirmativas 1 e 2 são verdadeiras.
- c) Somente as afirmativas 1 e 3 são verdadeiras.
- ▶ d) Somente as afirmativas 2 e 3 são verdadeiras.
- e) As afirmativas 1, 2 e 3 são verdadeiras.

25 - Considere as seguintes afirmações:

- Se você não sente algo ao ouvir Bob Marley, então você está morto.
- Se você está morto, então você não pode escolher o que quer ouvir.
- Você pode escolher o que quer ouvir.

A partir dessas afirmações, é correto concluir que você:

- a) não sente nada ao ouvir Bob Marley porque você está morto.
- b) não pode escolher ouvir Bob Marley.
- ▶ c) sente algo ao ouvir Bob Marley.
- d) não sente algo ao ouvir Bob Marley e não pode escolher o que quer ouvir.
- e) não está morto porque sente algo ao ouvir Bob Marley.

INFORMÁTICA

26 - Considere o seguinte procedimento utilizando o Windows Explorer:

Para fazer uma cópia de segurança dos arquivos da pasta DADOS para um *Pen Drive*, preservando a pasta DADOS em sua origem, basta selecionar a pasta DADOS, clicar CTRL+ _____, selecionar o *Pen Drive* e clicar CTRL+ _____.

Assinale a alternativa que preenche corretamente as lacunas acima, na ordem em que aparecem no texto.

- a) R – C.
- b) C – R.
- ▶ c) C – V.
- d) V – C.
- e) C – R.

*27 - Quanto ao uso do Windows Explorer, identifique as afirmativas a seguir como verdadeiras (V) ou falsas (F):

- () Clicar duas vezes (em seguida) com o botão direito do mouse sobre um arquivo que foi criado por um aplicativo fará com que o aplicativo a ele associado seja aberto.
- () Para criar a pasta BACKUP em um *Pen Drive* (G:), clicamos com o botão direito do mouse no ícone da Unidade USB (G:), selecionamos a opção Novo na caixa de diálogo que será aberta e então digitamos BACKUP na janela aberta.
- () Selecionar os arquivos da pasta FOTOS com o botão direito do mouse e com a tecla DEL pressionada, e após a seleção clicar em Sim na janela que será aberta fará com que os arquivos selecionados sejam excluídos da pasta.
- () Para salvar o conteúdo da pasta NOVOS do Disco Local (C:) em um *Pen Drive* (G:), basta clicar com o botão direito do mouse sobre a pasta NOVOS em (C:) e, sem soltar o botão, arrastar a pasta para (G:).

Assinale a alternativa que apresenta a sequência correta, de cima para baixo.

- a) V – V – V – V.
- b) F – V – F – F.
- c) V – V – F – F.
- d) V – F – V – V.
- e) F – F – V – V.

*Questão anulada, seu valor será distribuído entre as questões válidas por área de conhecimento.

28 - Utilizando o Internet Explorer, clicar ALT+X permite que:

- a) a página seja atualizada.
- b) a lista de páginas favoritas seja apresentada.
- c) o menu *pesquisa* seja aberto.
- ▶ d) o menu *ferramentas* seja aberto.
- e) o aplicativo seja fechado.

29 - Para imprimir um documento numa impressora da rede interna localizada em sala diferente daquela onde esteja o computador com o documento que se deseja imprimir, é necessário que esse computador esteja ligado à rede:

- a) cabeada e com o hardware da impressora instalado nele.
- b) sem fio, com o hardware e o software instalados nele.
- ▶ c) cabeada ou sem fio e com o driver da impressora instalado nele.
- d) cabeada e com o driver instalado direto na impressora.
- e) cabeada ou sem fio, porém com o hardware instalado nele e o software driver instalado direto na impressora.


30 - Com relação ao uso do Microsoft Word, identifique as afirmativas a seguir como verdadeiras (V) ou falsas (F):

- () Para numerar todas as linhas de um documento, na guia Referências, clicamos na opção Número de Linha e depois na opção Linha a Linha.
- () Clicar nas teclas CTRL+X fará com que as últimas alterações feitas no documento sejam desfeitas.
- () Para deixar um texto selecionado com letras bem pequenas, abaixo da linha do texto, usam-se as teclas CTRL+=.
- () Para inserir símbolos em um texto, podemos usar a autocorreção. Assim sendo, podemos inserir o símbolo ∞ atribuindo a ele as teclas ALT+I.

Assinale a alternativa que apresenta a sequência correta, de cima para baixo.

- a) V – V – F – F.
- b) V – V – V – F.
- c) V – F – F – V.
- d) F – V – V – F.
- ▶ e) F – F – V – V.

31 - Considere as seguintes afirmativas, relativas ao aplicativo Microsoft Word:

1. A opção *colar* insere, na posição do cursor, o conteúdo ativo da Área de Transferência.
2. Ao clicarmos no botão  estaremos excluindo o texto que foi selecionado.
3. Podem-se inserir caracteres que não existam no teclado num texto que foi aberto para correções.
4. Pode-se salvar um mesmo documento de uma janela ativa, com vários nomes e em várias pastas, sem ser necessário fechá-lo.

Assinale a alternativa correta.

- a) Somente a afirmativa 4 é verdadeira.
- b) Somente as afirmativas 1 e 2 são verdadeiras.
- c) Somente as afirmativas 2 e 3 são verdadeiras.
- ▶ d) Somente as afirmativas 1, 3 e 4 são verdadeiras.
- e) As afirmativas 1, 2, 3 e 4 são verdadeiras.






32 - Considere a figura abaixo, relativa ao Microsoft Excel:

	A	B	C	D	E	F	G	H	I
1									
2		3000	8000	4000	1000	4000	####		
3									

O conteúdo da célula G2 é:

- a) 400.
- b) 4000.
- c) 5000.
- d) 40000.
- ▶ e) 50000.

33 - Para transformar três colunas em uma única célula, utilizando o Microsoft Excel, selecionamos as três colunas e clicamos no botão?

- a)  b)  c)  d)  e) 

34 - Sobre o funcionamento de um computador, considere as seguintes afirmativas:

1. É o processador que determina a capacidade de armazenamento de informações em um computador.
2. A capacidade de armazenar dados em um HD é medida em GHz.
3. As impressoras multifuncionais (com copiadora e escâner) são exemplos de periféricos de entrada e saída de dados.
4. O Sistema Operacional Windows Explorer tem de ser atualizado constantemente.

Assinale a alternativa correta.

- a) Somente a afirmativa 3 é verdadeira.
 b) Somente as afirmativas 1 e 2 são verdadeiras.
 c) Somente as afirmativas 2 e 4 são verdadeiras.
 d) Somente as afirmativas 1, 3 e 4 são verdadeiras.
 e) As afirmativas 1, 2, 3 e 4 são verdadeiras.

35 - Considere o Sistema Operacional Windows 8, que permite usar atalhos do teclado. Pressionar a tecla de logotipo do Windows + I abre a possibilidade de:

- a) inserir aplicativo novo no menu de acesso rápido.
 ► b) acesso às configurações do Windows.
 c) acesso aos dispositivos de hardware ligados.
 d) inserir aplicativo novo no Painel de Controle.
 e) acesso e inserção de comandos para execução rápida de aplicativos.

LEGISLAÇÃO

36 - O Decreto nº 983/2004, que regulamenta os artigos 12, 21 e 22 da Lei nº 7.833/1991, de Curitiba/PR, em seu artigo 8º, estabelece a responsabilidade do município de remoção de resíduos sólidos domiciliares, por meio de coleta, devendo o gerador segregá-los previamente, acondicioná-los e dispô-los para coleta. Considere os itens referentes a habitações unifamiliares:

1. Resíduos orgânicos até 600 litros por semana.
2. Resíduos domiciliares recicláveis até 600 litros por semana.
3. Resíduos vegetais provenientes de limpeza de jardim ou poda de árvores até 1000 litros por mês.
4. Mobiliário inservível em até duas unidades por semana.
5. Resíduos de construção civil classes A (reutilizáveis e recicláveis) e C (para os quais não há reciclagem viável) até 500 litros por semana.

A responsabilidade do município de remoção inclui os itens:

- a) 1 e 2 apenas.
 ► b) 1, 2 e 3 apenas.
 c) 1, 4 e 5 apenas.
 d) 3, 4 e 5 apenas.
 e) 1, 2, 3, 4 e 5.

*37 - Considera-se Área de Preservação Permanente (APP) ao longo de lagos e lagoas naturais as faixas marginais em largura mínima de 30 m em zonas urbanas e de 100 m em zonas rurais. No caso de cursos de água naturais perenes e intermitentes, a faixa de APP pode variar e, medida desde a borda da calha do leito regular, deve ser de largura mínima:

- a) igual à largura do curso de água.
 b) de 10 m, que aumenta de maneira proporcional para cursos de água de largura 10 m ou mais.
 c) de 10 m, que aumenta de maneira não proporcional para cursos de água de largura 10 m ou mais.
 d) de 30 m, que aumenta de maneira proporcional para cursos de água de largura 30 m ou mais.
 e) de 30 m, que aumenta de maneira não proporcional para cursos de água de largura 30 m ou mais.

38 - A Lei nº 1.656/1958, conhecida como Estatuto dos Funcionários Públicos Municipais, enumera direitos e deveres do funcionário. A respeito do assunto, assinale a alternativa correta.

- a) É dever do funcionário guardar sigilo sobre assuntos da repartição, o que inclui a proibição de reportar às autoridades superiores, nos casos em que tomar conhecimento, de irregularidade praticada pela chefia imediata.
 b) É facultado ao funcionário frequentar cursos legalmente instituídos para aperfeiçoamento ou especialização.
 ► c) É dever do funcionário, mesmo na ausência de cursos legalmente instituídos para aperfeiçoamento ou especialização, atualizar-se a respeito de leis, legislação e normas que a repartição lhe indicar.
 d) É direito do funcionário a recusa ao comparecimento na repartição fora do horário ordinário.
 e) É proibido ao funcionário aceitar presente de superiores.

*Questão anulada, seu valor será distribuído entre as questões válidas por área de conhecimento.

39 - De acordo com a Lei nº 10.625/2002, o nível máximo de pressão sonora admitido é variável de acordo com a região e com o horário. Assinale a alternativa que apresenta a região de Curitiba com rigor máximo quanto à pressão sonora admitida.

- ▶ a) Zona residencial do Alto da Glória, às 7h00.
- b) Zona residencial do Alto da Glória, às 22h00.
- c) Setor de uso esportivo, às 7h00.
- d) Setor de uso esportivo, às 22h00.
- e) Zona Central.

40 - Considere um condomínio de apartamentos em Curitiba (PR) com 20 unidades. Considere que a coleta de resíduos sólidos orgânicos é realizada regularmente três vezes por semana, e a coleta de resíduos sólidos domiciliares recicláveis (papéis, plásticos, metais, vidros) acontece duas vezes por semana. O condomínio resolve adquirir recipientes de volume igual ao máximo coletado pelo Município por coleta, de modo a evitar que os moradores, no seu conjunto, disponham além da quantidade máxima. Admita que não há espaço vazio entre as embalagens ali depositadas. Considere que 1 m³ equivale a 1000 litros. Neste caso, a capacidade dos recipientes deverá ser de:

- a) 600 litros para lixo orgânico e 600 litros para lixo reciclável.
- b) 12.000 litros para lixo orgânico e 12.000 litros para lixo reciclável.
- ▶ c) 4 m³ para lixo orgânico e 6 m³ para lixo reciclável.
- d) 15 m³ na soma de lixo orgânico e lixo reciclável.
- e) 4 m³ para lixo orgânico e 4 m³ para lixo reciclável.