



INSCRIÇÃO	TURMA	NOME DO CANDIDATO
ASSINO DECLARANDO QUE LI E COMPREENDI AS INSTRUÇÕES ABAIXO:		ORDEM

## 104 – Cargos de Nível Médio

### INSTRUÇÕES

1. Confira, acima, o seu número de inscrição, turma e nome. Assine no local indicado.
2. Aguarde autorização para abrir o caderno de prova. **Antes de iniciar a prova**, confira a numeração de todas as páginas.
3. A prova desta fase é composta de 30 (trinta) questões objetivas.
4. Nesta prova, as questões objetivas são de múltipla escolha, com 5 (cinco) alternativas cada uma, sempre na sequência **a, b, c, d, e**, das quais somente uma deve ser assinalada.
5. A interpretação das questões é parte do processo de avaliação, não sendo permitidas perguntas aos aplicadores de prova.
6. Ao receber o cartão-resposta, examine-o e verifique se o nome nele impresso corresponde ao seu. Caso haja irregularidade, comunique-a imediatamente ao aplicador de prova.
7. O cartão-resposta deverá ser preenchido com caneta esferográfica de tinta preta, tendo-se o cuidado de não ultrapassar o limite do espaço para cada marcação.
8. A duração da prova é de 4 horas. Esse tempo inclui a resolução das questões e a transcrição das respostas para o cartão-resposta.
9. **Terá sua prova anulada e será automaticamente desclassificado do Concurso Público o candidato que:**
  - a) recusar-se a entregar o material de prova ao término do tempo destinado para a sua realização;
  - b) faltar com o devido respeito para com qualquer membro da equipe de aplicação da prova, autoridades presentes ou outro candidato;
  - c) praticar atos contra as normas ou a disciplina ou que gerem desconforto durante a aplicação da prova;
  - d) deixar de cumprir instruções/determinações do aplicador de prova ou inspetor;
  - e) descumprir as instruções contidas no caderno de prova;
  - f) for surpreendido em comunicação com outro candidato ou terceiros, verbalmente, por escrito ou por qualquer outro meio de comunicação;
  - g) utilizar meios fraudulentos ou ilegais para obter para si ou para terceiros a aprovação no Concurso Público;
  - h) não se submeter ao sistema de identificação por digital e detecção de metal;
  - i) não permitir a coleta de sua assinatura;
  - j) ausentar-se do recinto durante a realização da prova sem o acompanhamento de membro da equipe de aplicação do Concurso Público;
  - k) afastar-se da sala durante a realização da prova portando o material de prova;
  - l) retirar-se da sala de prova antes de decorrida uma hora e trinta minutos do início da prova;
  - m) retirar-se definitivamente da sala de prova em desacordo com o item 8.17 do edital (os três últimos candidatos de cada turma só poderão se retirar da sala de prova simultaneamente).
10. Ao concluir a prova, permaneça em seu lugar e comunique ao aplicador de prova. Aguarde autorização para entregar o material de prova.
11. Caso se retire definitivamente da sala antes de decorridas 3 horas do início da prova, anote as respostas no quadro disponível no verso desta folha, recorte na linha indicada e leve-o consigo.
12. Após decorridas 3 horas do horário estabelecido para o início da prova, será permitido ao candidato que se retirar definitivamente da sala levar consigo o caderno de prova.
13. Após sair definitivamente da sala de prova, dirija-se imediatamente ao portão de saída e retire-se do local de prova, sob pena de ser excluído do Concurso Público.



RESPOSTAS

01 -	04 -	07 -	10 -	13 -	16 -	19 -	22 -	25 -	28 -
02 -	05 -	08 -	11 -	14 -	17 -	20 -	23 -	26 -	29 -
03 -	06 -	09 -	12 -	15 -	18 -	21 -	24 -	27 -	30 -

O texto a seguir é referência para as questões 01 a 03.

### Confiança de brasileiros em cientistas cresceu na pandemia, indica estudo

Durante a pandemia de Covid, a confiança dos brasileiros em cientistas cresceu. É o que apontam resultados de uma pesquisa de opinião feita pelo Centro de Estudos SoU\_Ciência em parceria com o Instituto Ideia Big Data.

Entre as 1.252 pessoas entrevistadas, 28,3% afirmam que, para assuntos importantes, a fonte de informação em que mais confiam são cientistas de universidades ou institutos públicos de pesquisa. Esses profissionais lideram a pesquisa nesse quesito. Em segundo lugar, aparecem os médicos, com 13,9% das respostas.

Em 2019, para a mesma pergunta, 11,8% tinham cientistas como primeira opção. Em 2015, pior ano da série para os pesquisadores, somente 7,8% citavam pessoas da ciência como fontes de informação mais confiáveis.

Em anos anteriores, religiosos, médicos e jornalistas estavam à frente dos cientistas como fontes de informação mais confiáveis. Foram realizadas entrevistas telefônicas de 25 a 27 de janeiro deste ano com pessoas com 16 anos ou mais de todo o país.

A importância de fazer a pesquisa **neste momento**, diz Pedro Arantes, professor da Unifesp e um dos coordenadores do SoU\_Ciência, é captar o impacto que a pandemia teve na percepção da ciência e tecnologia no Brasil.

Apesar de o levantamento mostrar uma maior confiança das pessoas em cientistas, o conhecimento sobre o tema permanece distante da maioria da população, apontam também os dados.

Quase 58% dos entrevistados disseram não se lembrar de qualquer instituição de pesquisa no país e cerca de 74% não sabem nomes de cientistas brasileiros importantes.

Entre os lembrados estão Oswaldo Cruz, Carlos Chagas, Átila Iamarino e Natalia Pasternak – pouco mais de 3% dos entrevistados que mencionaram algum nome citaram o alemão Albert Einstein.

Apesar disso, os representantes do SoU\_Ciência apontam que os números melhoraram em relação às pesquisas passadas.

Mas ainda há um longo caminho para melhorar a compreensão pública da ciência, ressaltam os pesquisadores.

"Tivemos uma popularização e agora temos que partir para uma conscientização", afirma Smaili. "Não basta expor o cientista e falar da ciência. Nós temos que concatenar tudo isso com uma política pública que aumente a percepção da população sobre a ciência, com programas de ciência nas escolas, no trabalho, para você torná-la acessível. A ciência é um direito do cidadão."

(Disponível em: <https://www1.folha.uol.com.br/ciencia/2022/03/confianca-de-brasileiros-em-cientistas-cresceu-na-pandemia-indica-estudo.shtml>. Adaptado.)

**01 - Com base no texto, considere as seguintes afirmativas:**

1. Os dados citados pelo texto foram levantados por meio de uma pesquisa de opinião realizada pela internet.
2. A última edição da pesquisa mencionada teve como destaque o fato de cientistas de instituições públicas assumirem a liderança em termos de confiança para informações relevantes.
3. Ainda que a confiança nos cientistas tenha aumentado, outros dados, como o conhecimento de nomes de profissionais e instituições ligados à área, tiveram uma piora em relação a anos anteriores.
4. As avaliações dos responsáveis pela pesquisa sobre os resultados apontam a popularização como apenas o primeiro passo para o acesso à ciência pelo cidadão.

**Assinale a alternativa correta.**

- a) Somente a afirmativa 1 é verdadeira.
- b) Somente as afirmativas 2 e 3 são verdadeiras.
- ▶ c) Somente as afirmativas 2 e 4 são verdadeiras.
- d) Somente as afirmativas 1, 3 e 4 são verdadeiras.
- e) As afirmativas 1, 2, 3 e 4 são verdadeiras.

**02 - A expressão “neste momento”, destacada no texto, faz referência:**

- ▶ a) ao momento posterior à pandemia de Covid.
- b) às recentes declarações anticiência de autoridades.
- c) a uma época de crescimento das informações na mídia sobre ciência.
- d) a um período de aumento de informações históricas.
- e) a uma fase de maior disponibilidade de divulgadores científicos na internet.

**03 - Considere o trecho a seguir:**

Apesar de o levantamento mostrar uma maior confiança das pessoas em cientistas, o conhecimento sobre o tema permanece distante da maioria da população, apontam também os dados.

**Assinale a alternativa que reescreve corretamente o trecho, mantendo-se o seu sentido.**

- a) Mesmo o conhecimento sobre o tema permanecendo distante da maioria da população de acordo com os dados, o levantamento demonstra maior confiança nos cientistas.
- b) Se há maior conhecimento dos cientistas, também há maior confiança por parte da população, de acordo com os dados.
- ▶ c) Ainda que o levantamento mostre uma maior confiança das pessoas em cientistas, segundo os dados, o conhecimento sobre o tema permanece distante da população.
- d) Tendo em vista os dados, o conhecimento do tema está em conformidade com a maior confiança populacional nos cientistas.
- e) Embora o conhecimento sobre o tema permaneça distante da maioria da população, os dados mencionam uma maior confiança nos cientistas.

O texto a seguir é referência para as questões 04 a 06.

**Tecnologia está transformando a saúde, agora precisamos usar com sabedoria**

\_\_\_\_\_ pandemia foi, sem sombra de dúvidas, uma **catalisadora** da transformação digital na saúde. [...] a alta demanda por atendimento médico, combinada \_\_\_\_\_ necessidade de garantir o distanciamento social, impulsionou a adoção de soluções digitais para garantir \_\_\_\_\_ continuidade das políticas de saúde.

Com isso, e muito rapidamente, serviços de saúde e, principalmente, os pacientes aderiram a modelos de atenção à saúde antes inimagináveis.

Tomemos como exemplo a telemedicina. Sua regulamentação no Brasil, que até então não avançava na agenda legislativa, deu um salto com a aprovação da Lei 13.989/20 que autoriza o atendimento médico online enquanto durar a pandemia de covid-19.

Mas o que era para ser algo transitório parece ter chegado para ficar. Dados da pesquisa "State of Telehealth" indicam que mais de 60% de pacientes planejam seguir utilizando a telemedicina combinada \_\_\_\_\_ consultas presenciais, e 80% dos prestadores de serviço pretendem continuar a oferta do serviço mesmo depois da pandemia.

[...] Não há mais volta; a saúde agora é tech. Inteligência artificial, telemedicina, IoT, realidade aumentada. Esses são apenas alguns dos exemplos de como a tecnologia deve estar cada vez mais presente no atendimento \_\_\_\_\_ saúde.

As possibilidades são infinitas. Os desafios para fazer com que sejam mais acessíveis, também.

(Disponível em: <https://www.uol.com.br/tilt/colunas/leticia-piccolotto/2022/03/19/healthtechs---oportunidades-para-transformar-a-saude-atraves-da-tecnologia.htm>.)

**04 - Assinale a alternativa que preenche corretamente as lacunas acima, considerando a ordem em que aparecem no texto.**

- a) À - a - à - a - à.
- b) Á - a - â - à - a.
- c) A - a - â - à - a.
- ▶ d) A - à - a - a - à.
- e) Á - à - a - à - à.

**05 - Com base no texto, assinale a alternativa correta.**

- a) A telemedicina foi criada para garantir o atendimento médico apesar do distanciamento social.
- b) A Lei 13.989/20 possibilitou a continuidade do atendimento médico online mesmo depois do fim da pandemia.
- c) Ainda não é possível afirmar se haverá ou não diminuição do papel da tecnologia na saúde.
- d) A pesquisa citada no texto demonstra que a maioria dos usuários da telemedicina não deve voltar ao atendimento presencial.
- ▶ e) Apesar das possibilidades abertas pela tecnologia na saúde, o acesso ainda é um obstáculo.

**06 - O termo "catalisadora", destacado no primeiro parágrafo do texto, pode ser substituído, sem prejuízo do sentido, por:**

- ▶ a) aceleradora.
- b) estruturadora.
- c) finalizadora.
- d) criadora.
- e) sinalizadora.

O texto a seguir é referência para as questões 07 a 09.

**Nos dias atuais, qual o real motivo de se discutir temas como a forma da Terra ou a eficácia das vacinas?**

Do ponto de vista prático, para a maior parte das pessoas, a questão sobre o formato do planeta é irrelevante. A vida segue seu fluxo, independentemente de se entender \_\_\_\_\_ a Terra não é plana. No fundo, isso é verdade sobre quase tudo; temos a impressão \_\_\_\_\_ podemos seguir adiante com nossas vidas sem entrar em detalhe sobre como funciona o mundo.

**Mas** essa não é apenas uma questão sobre a forma do nosso planeta, e sim sobre a nossa crença e confiança em um sistema lógico e coerente capaz de explicar o mundo: a ciência.

No momento \_\_\_\_\_ conhecimentos consolidados como a esfericidade da Terra passam a ser questionados de maneira simplória, abrem-se as portas para um mundo ilógico, \_\_\_\_\_ toda sorte de ideia pseudocientífica tem lugar. Perde-se a crença na eficácia das vacinas, na utilidade da energia nuclear, na ecologia planetária, para citar alguns de seus perigos. Procurar entender o formato de nosso planeta é procurar entender o mundo. E esse é o método mais eficiente \_\_\_\_\_ conhecemos para melhorá-lo.

(Disponível em: <https://cienciahoje.org.br/artigo/pequenas-perguntas-grandes-questoes-383/>.)

**07 - Assinale a alternativa que preenche corretamente as lacunas acima, de acordo com a ordem em que aparecem no texto.**

- a) de que - que - onde - em que - que.
- ▶ b) que - de que - em que - onde - que.
- c) onde - que - em que - que - em que.
- d) que - a que - onde - onde - de que.
- e) em que - de que - onde - que - a que.

**08 - O termo "mas", destacado no segundo parágrafo do texto, cria, com o primeiro parágrafo do texto, uma relação de:**

- a) exemplificação.
- b) explicação.
- c) conclusão.
- ▶ d) contraste.
- e) adição.

**09 - Assinale a alternativa que apresenta corretamente a tese do texto.**

- a) A diferença entre a crença de que a Terra é plana e de que as vacinas são ineficazes é que a primeira não tem impactos reais no mundo em que vivemos.
- b) A desconfiança com relação à utilidade da energia nuclear é legítima em um mundo descrente na ciência.
- c) A ligação entre crenças anticientíficas deve ser analisada segundo a especificidade de cada grupo, seja ele o grupo antivacinas ou terraplanistas.
- d) A desconfiança na ciência é uma forma legítima de apreender o mundo em que vivemos, na medida em que parte da ideia de que tudo pode e deve ser questionado.
- e) Ainda que pragmaticamente a crença na esfericidade da Terra possa parecer irrelevante, colocá-la em dúvida sinaliza para um momento de descrença na ciência como forma legítima de apreensão da realidade.

**10 - Considere a seguinte tirinha:**



(Disponível em: <http://www.malvados.com.br/tirinha1687.jpg>.)

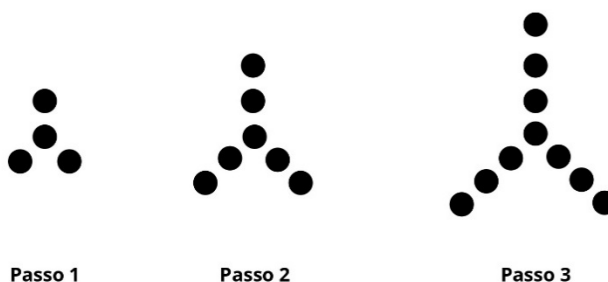
Sobre a tirinha, considere as seguintes afirmativas:

1. O termo “há” pode ser substituído, no primeiro quadrinho, sem prejuízo do sentido, por “existe”.
2. Caso se substituísse “alguma pessoa” por “pessoas” no último quadrinho, seria necessário acentuar o verbo “ter”.
3. A expressão “pessoa jurídica”, no último quadrinho, faz referência à situação de dever na justiça.
4. O último quadrinho afirma o valor da pessoa humana para nossa sociedade.

Assinale a alternativa correta.

- a) Somente a afirmativa 1 é verdadeira.
- b) Somente as afirmativas 1 e 2 são verdadeiras.
- c) Somente as afirmativas 3 e 4 são verdadeiras.
- d) Somente as afirmativas 2, 3 e 4 são verdadeiras.
- e) As afirmativas 1, 2, 3 e 4 são verdadeiras.

**11 - Uma pessoa montou uma sequência de figuras, de modo que os 3 passos iniciais são:**



A cada passo, ela sempre acrescenta a mesma quantidade de bolinhas à figura seguinte. Então, no passo 11, a figura terá quantas bolinhas?

- a) 31.
- b) 33.
- c) 34.
- d) 36.
- e) 37.

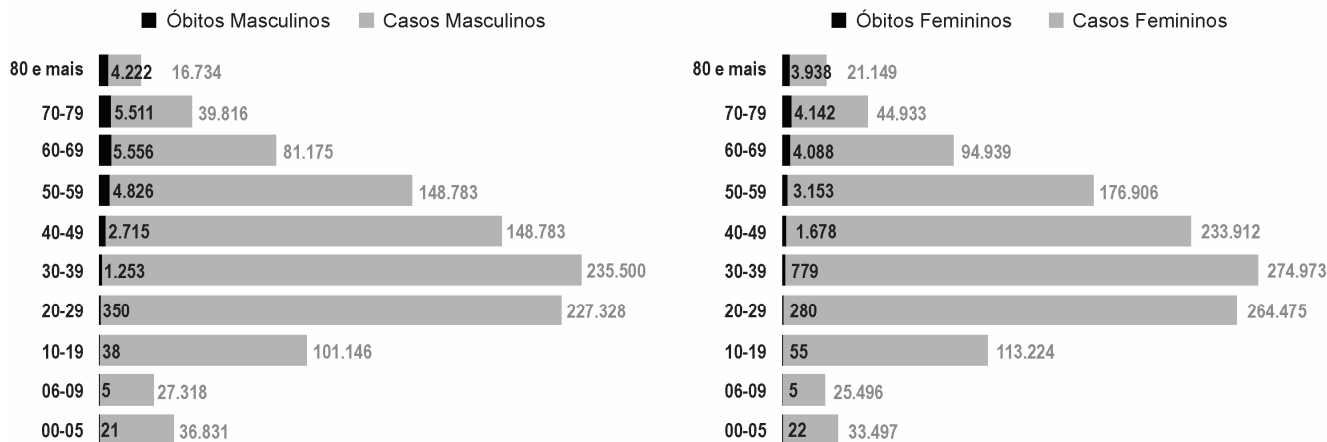
**12 - O cálculo 20% de 20% resulta em:**

- a) 0,04%.
- b) 0,4%.
- c) 4%.
- d) 40%.
- e) 400%.

O gráfico a seguir é referência para as questões 13 e 14.

### Um panorama da COVID-19 no estado do Paraná

## CASOS E ÓBITOS POR SEXO E FAIXA ETÁRIA



O gráfico acima, publicado no dia 24 de março de 2022 no informe epidemiológico do site da Secretaria da Saúde do Paraná (SESA), mostra o número de casos e de óbitos da COVID-19 no Paraná, separados por sexo e por faixa etária.

(Disponível em: [https://www.saude.pr.gov.br/sites/default/arquivos\\_restritos/files/documento/2022-03/informe\\_epidemiologico\\_24\\_03\\_2022.pdf](https://www.saude.pr.gov.br/sites/default/arquivos_restritos/files/documento/2022-03/informe_epidemiologico_24_03_2022.pdf). Consultado em 24 de março de 2022.)

**13 - Considerando as informações contidas no gráfico, assinale a alternativa correta.**

- ▶ a) A faixa etária com o maior número de casos é a de 30-39 anos.
- b) A faixa etária com o menor número de casos é a faixa etária de 00-05 anos.
- c) Entre as pessoas do sexo feminino, a faixa etária de 80 anos e mais possui o menor número de óbitos.
- d) Entre as pessoas do sexo masculino, a faixa etária de 30-39 anos possui o maior número de óbitos.
- e) A faixa etária com o menor número de óbitos é de 00-05 anos.

**14 - Considerando as informações contidas no gráfico, assinale a alternativa correta.**

- a) Para pessoas de 70 anos ou mais, cerca de 48,74% do número de óbitos ocorreu na faixa etária de 80 e mais anos.
- b) Entre as pessoas do sexo feminino, a faixa etária de 10-19 anos corresponde a aproximadamente 47,18%.
- c) Mais pessoas do sexo feminino foram a óbito do que pessoas do sexo masculino na faixa etária de 60-69 anos.
- ▶ d) Entre as pessoas do sexo feminino, a média do número de casos das pessoas com 50 anos ou mais foi maior que 84.400 casos.
- e) Na faixa etária de 06-09 anos, o número de casos foi o mesmo para pessoas do sexo masculino e do sexo feminino.

**15 - Sabe-se que há 5 anos a idade de Paula era a dobro da idade de Luiz. Se, nos tempos atuais, a soma da idade de ambos é 55 anos, qual é a idade de Luiz atualmente?**

- a) 15 anos.
- ▶ b) 20 anos.
- c) 25 anos.
- d) 30 anos.
- e) 35 anos.

**16 - Em uma prova com 4 conteúdos diferentes, um candidato teve as seguintes notas: 80, 95, 75, 60. Qual foi a média aritmética das notas desse candidato?**

- ▶ a) 77,5.
- b) 155.
- c) 310.
- d) 620.
- e) 1240.

**17 - Em uma pesquisa de opinião, feita com 2000 pessoas, sobre dois produtos das marcas A e B, pode-se concluir que 1244 consomem o produto da marca A, 716 consomem o produto da marca B e 154 pessoas não consomem produto de nenhuma das marcas. Quantas pessoas consomem os produtos da marca A e da marca B?**

- a) 40.
- ▶ b) 114.
- c) 228.
- d) 1846.
- e) 1960.

18 - Considere um tanque de 500 litros, contendo duas torneiras que possuem a mesma vazão. Sabe-se que, se apenas uma das torneiras estiver aberta, o tanque esvaziará em 2 horas. Se o tanque estiver cheio e ligarmos as duas torneiras ao mesmo tempo, em quanto tempo o tanque esvaziará?

- a) 30 minutos.
- ▶ b) 1 hora.
- c) 2 horas.
- d) 3 horas.
- e) 4 horas.

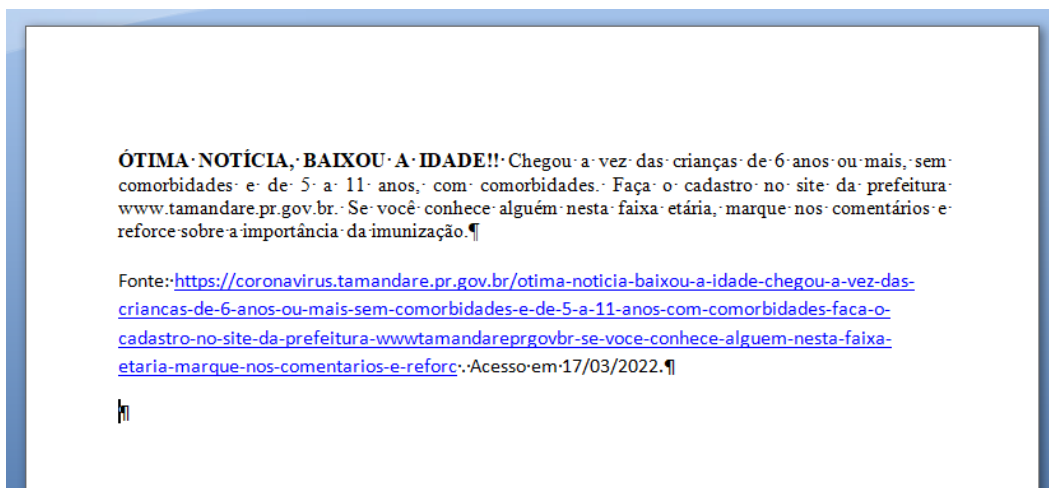
19 - Se um produto com 20% de desconto custa R\$1200,00, qual é o valor desse produto sem o desconto?

- a) R\$ 6000,00.
- ▶ b) R\$ 1500,00.
- c) R\$ 1440,00.
- d) R\$ 960,00.
- e) R\$ 300,00.

20 - Considere o seguinte processo: dado um certo valor, calcula-se a metade desse valor. No passo seguinte, calcula-se a metade do valor obtido no passo anterior. Após cinco passos, o valor obtido corresponde a que fração do valor inicial?

- a)  $1/2$ .
- b)  $1/16$ .
- ▶ c)  $1/32$ .
- d)  $1/64$ .
- e)  $1/128$ .

A imagem a seguir (texto elaborado no Word 2007, versão português) é referência para as questões 21 a 23.



21 - Assinale a alternativa que apresenta corretamente o recurso de alinhamento utilizado no primeiro parágrafo do texto.

- a) Alinhar texto pela parte superior.
- ▶ b) Justificar.
- c) Alinhar texto à esquerda.
- d) Centralizar.
- e) Ajustar texto às margens externas.

22 - No documento, é possível observar o caractere especial “¶”. A finalidade desse recurso é:

- ▶ a) exibir marcas de parágrafo e outros símbolos de formatação ocultos.
- b) indicar que toda a formatação foi excluída no ponto marcado.
- c) incluir um novo comentário sobre o texto.
- d) apresentar as alterações que foram realizadas no documento ou em trecho específico.
- e) permitir a inclusão de uma legenda.

23 - A formatação do trecho que contém um endereço de site no segundo parágrafo do texto caracteriza o uso de:

- a) marcador.
- b) sombreamento.
- ▶ c) *hiperlink*.
- d) sobrescrito.
- e) *SmartArt*.

24 - A respeito do Windows 10, versão em português, considere as seguintes afirmativas:

1. Possui recurso que permite a compactação de arquivos em formato .zip.
2. O espaço de armazenamento de arquivos da lixeira é configurável.
3. O aplicativo “Ferramenta de Captura” possibilita a realização de uma cópia da tela ou de parte dela para a área de transferência.
4. Disponibiliza o software “Mapa de Caracteres”, que é uma solução completa de localização.

Assinale a alternativa correta.

- a) Somente a afirmativa 3 é verdadeira.
- b) Somente as afirmativas 1 e 4 são verdadeiras.
- c) Somente as afirmativas 2 e 4 são verdadeiras.
- ▶ d) Somente as afirmativas 1, 2 e 3 são verdadeiras.
- e) As afirmativas 1, 2, 3 e 4 são verdadeiras.

A planilha a seguir (elaborada no Excel 2007, versão em português), apresentando um extrato de despesas de algumas escolas de uma prefeitura, é referência para as questões 25 e 26.

	A	B	C	D	E	F
1		Energia elétrica	Água	Internet	Telefonia	Total por escola
2	Escola 1	R\$ 492,89	R\$ 1.159,25	R\$ 349,00	R\$ 88,58	R\$ 2.089,72
3	Escola 2	R\$ 1.256,34	R\$ 2.425,00	R\$ 349,00	R\$ 32,70	R\$ 4.063,04
4	Escola 3	R\$ 292,65	R\$ 455,65	R\$ 199,00	R\$ 4,32	R\$ 951,62
5	Total por despesa	R\$ 2.041,88	R\$ 4.039,90	R\$ 897,00	R\$ 125,60	R\$ 7.104,38

25 - Para calcular o “Total por despesa” e o “Total por escola”, conforme realizado na planilha, a função que deve ser utilizada é:

- a) =CALCULA()
- b) =SOMASE()
- c) =TOTAL()
- d) =ADICIONA()
- ▶ e) =SOMA()

26 - Deseja-se ajustar a planilha para que as escolas sejam ordenadas de acordo com a coluna “Total por escola” de modo que os valores mais altos apareçam mais acima e os menores valores fiquem mais abaixo. Considere que foi realizada a seleção correta das células e que todas as linhas serão exibidas. O recurso a ser utilizado é:

- ▶ a) Classificar.
- b) Filtro.
- c) Agrupar.
- d) Organizar tudo.
- e) Maior.

27 - Em relação à navegação na internet, realizada a partir de software navegador disponível no sistema Windows 10, é correto afirmar:

- a) A lista de favoritos contém os sites que foram acessados mais de uma vez, sendo zerada cada vez que o computador é desligado ou reiniciado.
- ▶ b) Os sites podem ser exibidos em abas (guias) e janelas.
- c) A barra de endereços e o histórico de acessos podem ser utilizados como ferramentas de busca na internet.
- d) Ao se clicar em um link que está relacionado com arquivo no formato .pdf, será apresentada uma mensagem de erro de incompatibilidade.
- e) O software navegador só poderá ser executado se houver disponibilidade de internet para o computador.

28 - Os computadores são constituídos de elementos identificados como hardware e software. Sobre o funcionamento de computadores e periféricos, é correto afirmar:

- a) O sistema operacional é o hardware responsável pelas interações com os softwares.
- b) Impressoras, mouse, teclado e scanners são classificados como dispositivos de entrada e saída de informações.
- c) Monitor com tela *touchscreen* é o software que permite a interação com a tela por meio do toque.
- ▶ d) Os *pendrives* são dispositivos que mantêm os arquivos armazenados mesmo depois de desconectados.
- e) As interfaces USB e HDMI são utilizadas para a conexão de rede.

29 - O explorador de arquivos do Windows 10:

- a) armazena os sites bloqueados pelo usuário.
- b) é um aplicativo que possibilita o envio e recebimento de arquivos eletrônicos – *e-mails* – pela internet.
- c) possibilita que o usuário explore recursos de economia de energia do sistema operacional.
- d) disponibiliza um editor de arquivos de texto e planilhas.
- ▶ e) permite o gerenciamento de arquivos e diretórios do computador.



**30 - Considere um ambiente de trabalho no qual existem salas e vários equipamentos (computadores, notebooks, celulares, impressoras) conectados e funcionando em uma mesma rede corporativa interna. A respeito desse ambiente, assinale a alternativa correta:**

- a) Uma intranet é uma rede acessada por integrantes de uma instituição e por pessoas externas autorizadas.
- b) É preciso ter acesso à internet para que uma rede interna funcione adequadamente.
- ▶ c) As conexões dos equipamentos à rede podem ser realizadas através da tecnologia *wireless*.
- d) O compartilhamento de arquivos em rede se refere ao encaminhamento para redes sociais.
- e) Impressoras compartilhadas em rede ficam disponíveis quando o computador principal está desligado.