

INSCRIÇÃO	TURMA	NOME DO CANDIDATO
-----------	-------	-------------------

ASSINO DECLARANDO QUE LI E COMPREENDI AS INSTRUÇÕES ABAIXO:	ORDEM
---	-------

402 – Licenciatura em Libras – Língua Brasileira de Sinais (Libras)

INSTRUÇÕES GERAIS

- Confira, acima, o seu número de inscrição, turma e nome. Assine no local indicado.
- Aguarde autorização para abrir o caderno de prova. Antes de iniciar a resolução das questões, confira a numeração de todas as páginas.

INSTRUÇÕES EM LIBRAS

1. Haverá, para cada candidato, um caderno de prova para resposta de 30 questões, assim distribuídas: 20 (vinte) questões objetivas de múltipla escolha com os enunciados disponibilizados apenas em Libras, sobre Conhecimentos Gerais e Específicos e 9 (nove) questões objetivas de português e língua estrangeira moderna, disponibilizadas apenas em língua portuguesa, e 1 (uma) questão discursiva.
2. As questões objetivas são de múltipla escolha, com 4 (quatro) alternativas de resposta, sempre na sequência **a, b, c, d**, das quais apenas 1 (uma) alternativa deverá ser assinalada.
3. As questões objetivas de Conhecimentos Gerais e Específicos serão disponibilizadas exclusivamente em Libras, por meio da apresentação de um vídeo, transmitido em duas etapas:
 - a) **Primeira etapa** - cada questão (enunciado e alternativas) será apresentada duas vezes, com intervalo de 5 (cinco) segundos entre a primeira apresentação e a repetição. Após a apresentação de cada questão, o candidato terá 15 (quinze) segundos para marcar a sua resposta no caderno de questões.
 - b) **Segunda etapa** - cada questão (enunciado e alternativas) será apresentada uma vez, com intervalo de 5 (cinco) segundos entre as questões.
4. O tempo de cada questão apresentada no vídeo será o mesmo para todos os candidatos.
5. As respostas às questões objetivas deverão ser transcritas no cartão-resposta com caneta esferográfica TRANSPARENTE de tinta preta, devendo o candidato assinalar uma única resposta para cada questão.
6. A questão discursiva (redação) deve ser respondida pelo candidato de forma manuscrita com CANETA ESFEROGRÁFICA TRANSPARENTE DE TINTA PRETA, valendo-se apenas do espaço reservado à questão no caderno de prova.
7. Durante o tempo de projeção da prova, é proibida a movimentação do candidato. Ao final da prova, o candidato deverá entregar aos aplicadores de prova o caderno de prova, o cartão-resposta e a folha da questão discursiva.
8. Os 03 (três) últimos candidatos de cada turma somente poderão retirar-se simultaneamente, para garantir a lisura na aplicação da prova.
9. A resposta da questão discursiva deve ser transcrita NA ÍNTEGRA para a folha de versão definitiva, com caneta preta.

Será considerada para correção apenas a resposta que conste na folha de versão definitiva.

DURAÇÃO DESTA PROVA: 5 horas

Conhecimentos Gerais, Conhecimentos Específicos, Português e Redação

Ouvintes

Espanhol

✂

RESPOSTAS					
01 -	06 -	11 -	16 -	21 -	26 -
02 -	07 -	12 -	17 -	22 -	27 -
03 -	08 -	13 -	18 -	23 -	28 -
04 -	09 -	14 -	19 -	24 -	29 -
05 -	10 -	15 -	20 -	25 -	

CONHECIMENTOS GERAIS

BIOLOGIA

01 -

- a)
- b)
- c)
- ▶ d)

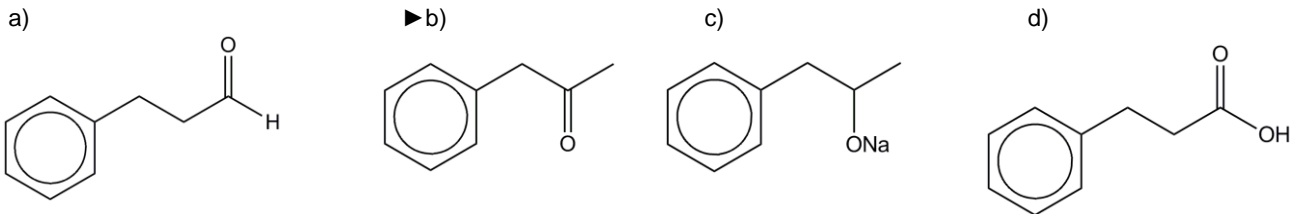
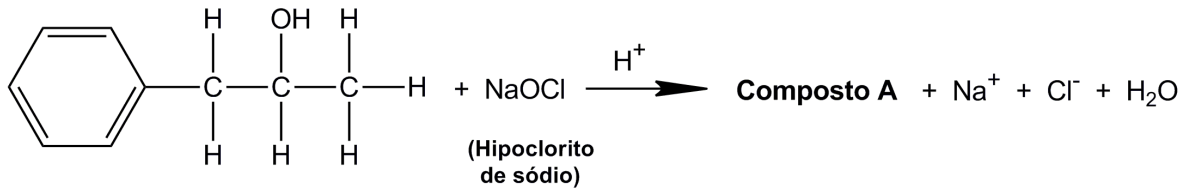
02 -

- 1.
- 2.
- 3.
- 4.

- a)
- ▶ b)
- c)
- d)

QUÍMICA/FÍSICA

03-



04 -

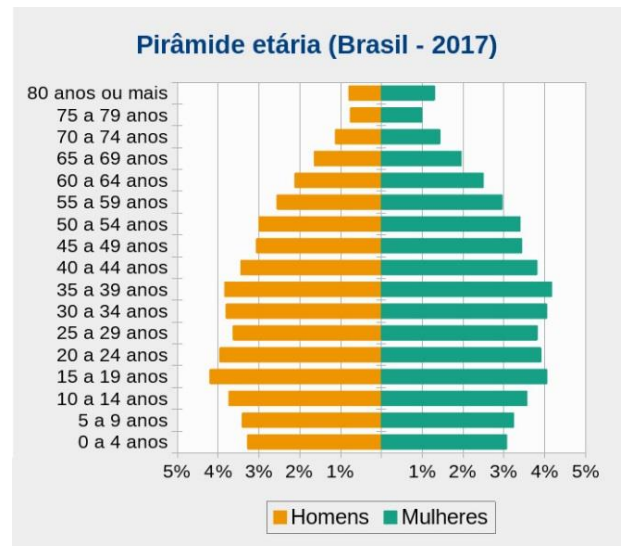
- 1.
- 2.
- 3.

- ▶ a)
- b)
- c)
- d)

GEOGRAFIA

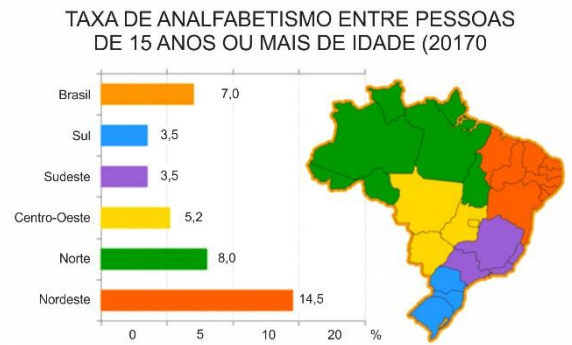
05-

- a)
- b)
- ▶ c)
- d)



06 -

- a)
- b)
- c)
- ▶ d)



Fonte: IBGE, Pesquisa Nacional por Amostra de Domicílios Contínua (PNAD Contínua) 2017

HISTÓRIA

07 -

- ▶ a)
- b)
- c)
- d)

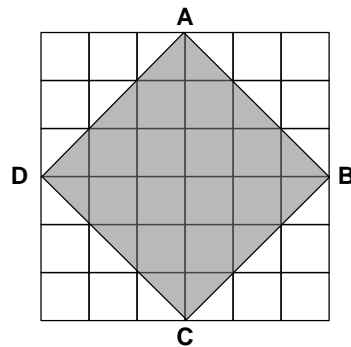
08 -

- ▶ a)
- b)
- c)
- d)

MATEMÁTICA

09 -

- a)
- b)
- ▶ c)
- d)



10 -

- a)
- ▶ b)
- c)
- d)

CONHECIMENTOS ESPECÍFICOS

11 -

- a)
- b)
- ▶ c)
- d)

12 -

- 1.
 - 2.
 - 3.
- a)
 - ▶ b)
 - c)
 - d)

13 -

- a)
- b)
- c)
- ▶ d)

14 -

- 1. ()
- 2. ()
- 3. ()

- a)
- ▶ b)
- c)
- d)

15 -

- a)
- b)
- ▶ c)
- d)



16 -

- a)
- b)
- c)
- ▶ d)

17 -

- ▶ a)
- b)
- c)
- d)

18 -

- ▶ a)
- b)
- c)
- d)

19 -

- ▶ a)
- b)
- c)
- d)

20 -

- a)
- b)
- c)
- ▶ d)

PORTUGUÊS

21 - Observe a imagem ao lado:

Assinale a alternativa que descreve corretamente essa imagem.

- a) A cena reproduz uma partida de futebol festivamente disputada por algumas crianças. Em primeiro plano, a imagem mostra uma criança sentada no chão, com os cotovelos apoiados sobre os joelhos, assistindo à brincadeira das outras crianças.
- b) Em primeiro plano na imagem, um menino de costas, sentado no chão, com os cotovelos apoiados sobre os joelhos e a cabeça baixa, está dormindo. Ao fundo, outras crianças brincam com uma bola, observadas por um menino sentado num banco.
- c) A imagem dá ênfase para duas crianças jogando bola, observadas por um menino sentado num banco de pedra. Em outra parte da cena, um outro menino, sentado no chão, com os cotovelos apoiados sobre os joelhos e a cabeça baixa, é mostrado com menos realce.



(Fonte: <<http://opais.sapo.mz/>>.)

- ▶ d) Em primeiro plano, a imagem mostra um menino de costas, sentado no chão, com os braços cruzados, os cotovelos apoiados sobre os joelhos e a cabeça baixa, com a testa encostada nos braços. Ao fundo, à direita, desfocados, há dois meninos brincando com uma bola. À esquerda, há um outro menino sentado num banco.

22 - Leia o texto abaixo:

A explicação para o resultado ruim dos alunos brasileiros no Pisa, teste internacional de educação no qual, na avaliação mais recente, em 2015, o Brasil ficou na 63ª colocação em ciências, na 59ª em leitura e na 65ª em matemática, entre 70 países – parece ir além da falta de conhecimento dos estudantes sobre o conteúdo. Além de errar muitas respostas, muitos dos alunos brasileiros sequer terminam a prova.

Desânimo, falta de motivação e despreparo emocional podem responder por grande parte do desempenho ruim dos brasileiros, que é bem pior até mesmo que o de vizinhos latinos, como a Colômbia.

(Disponível em: <<https://www.bbc.com/portuguese/brasil-44888934>>. Adaptado.)

De acordo com o texto, os alunos brasileiros que fazem o exame do Pisa:

- a) têm desempenho melhor que os alunos da Colômbia.
- ▶ b) são mais prejudicados por fatores de ordem emocional do que pela falta de conhecimento.
- c) apresentam melhor desempenho em matemática.
- d) conseguem terminar a prova, mas erram muitas respostas.

23 - Analise a seguinte manchete do jornal *Folha Mais* de Pernambuco (10/11/2018) sobre a indústria naval no Brasil:



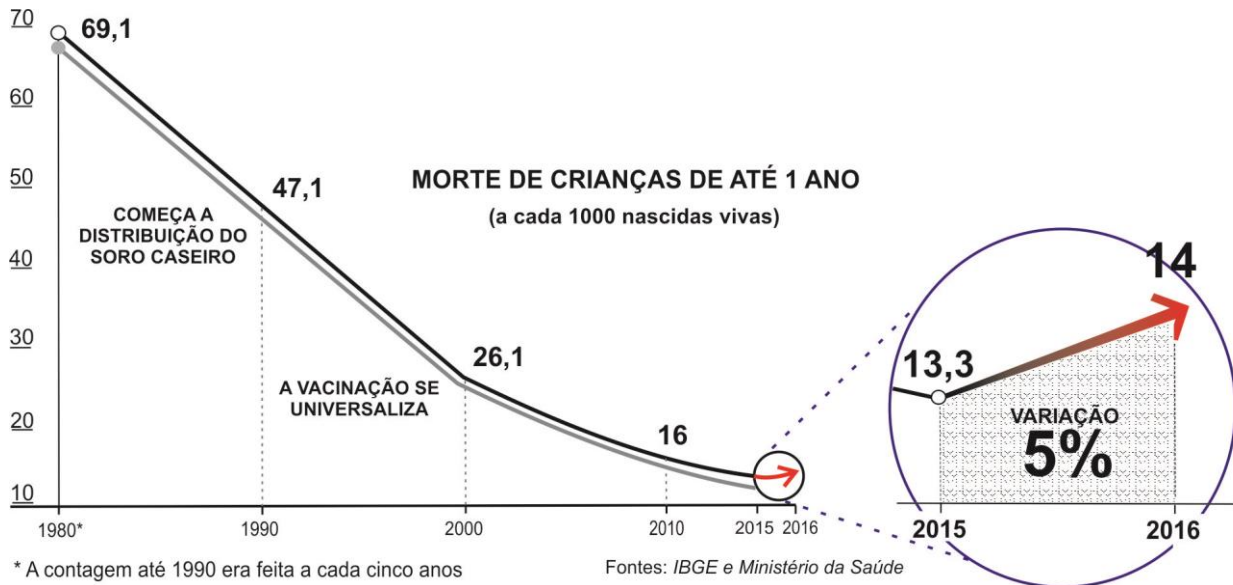
Uma indústria a ver navios

O setor naval no Brasil, que já chegou a empregar 84 mil pessoas e, hoje, só tem 23 mil, corre o risco de perder mais terreno frente à concorrência estrangeira. O futuro governo não assegura que o conteúdo local - medida que garante a construção de, pelo menos, 25% dos navios de bandeira brasileira em território nacional - terá continuidade. Movimento preocupa empresários. **VEICULO - Pág. 1**

Essa manchete anuncia um texto que vai apontar:

- a) a retomada dos investimentos na indústria naval do Brasil.
- b) o bom desempenho da indústria naval brasileira.
- c) as medidas para atrair investidores estrangeiros no setor naval brasileiro.
- ▶ d) o descaso dos governos com o setor naval brasileiro.

24 - Leia o gráfico abaixo:



Assinale a alternativa que apresenta um título adequado para este gráfico:

- a) Campanha de sucesso
- b) O fim da mortalidade infantil
- c) Queda vertiginosa
- ▶ d) Queda interrompida

25 - Leia o texto abaixo:

O Twitter continua com seus 300 milhões de perfis, o Facebook tem mais de dois bilhões e o Instagram segue crescendo e já passa dos 500 milhões.

Jaron Lanier, pioneiro da internet e da realidade virtual, considera que os benefícios das redes sociais não compensam os inconvenientes. E em seu último livro, *Ten Arguments for Deleting Your Social Media Accounts* ("dez argumentos para apagar as suas contas nas redes sociais"), dá motivos para largar o Twitter, o Facebook e inclusive o WhatsApp e os serviços do Google. Se pudermos. E mesmo que seja só por uma temporada.

De acordo com o texto, Jaron Lanier:

- a) incentiva os usuários a abrirem contas nas redes sociais, pelo volume de pessoas.
- b) escreveu um livro sobre os benefícios trazidos pelas redes sociais.
- ▶ c) desaconselha os usuários de internet a terem contas nas redes sociais.
- d) considera que os usuários devem abrir contas nas redes sociais durante apenas uma temporada.

26 - Leia a tirinha ao lado:

Com base nos elementos da tirinha, é correto concluir que:

- ▶ a) o menino costuma derrubar coisas.
- b) a mãe acha que o menino derrubou alguma coisa.
- c) os pais querem saber o que o menino derrubou.
- d) o menino se recusa a revelar o que tinha derrubado.



(Fonte: <<https://tirasarmandinho.tumblr.com/>>.)

ESPAÑHOL

27 - ¿Pueden multarte por tocar el claxon en un atasco?

La pregunta que se hace en ese titular de prensa es:

- a) ¿Te pueden multar si estás retrasado y tienes que avanzar a través de un local prohibido?
- b) ¿Te pueden multar al chocar contra el coche que está delante de ti en una carretera?
- ▶ c) ¿Te pueden multar si utilizas la bocina en una congestión de vehículos?
- d) ¿Te pueden multar si te adelantas con el coche en un paso de peatones?

O texto a seguir é referência para as questões 28 e 29.

Concurso de Pinchos de Nájera

Desde el pasado 6 de septiembre y durante los días 9, 13, 14, 15, 16 y 17 estarán a disposición de todos los que lo deseen los pinchos que participan en el XIII Concurso de Pinchos de Nájera, un evento organizado por el Ayuntamiento de la ciudad del mueble y en el que colabora la Asociación de Bares de Nájera.

El horario en el que los locales tendrán los pinchos a disposición del público será de 13 a 15.30 horas y de 20 a 22 horas. El precio será de dos euros con vino del año, mosto o sidra, y de 2,50 euros con el crianza seleccionado.

Este año, además, el premio al mejor pincho, que se entregará el 17 de septiembre, es un diseño de Muebles Tuesta. Se otorgarán premios a los tres primeros clasificados y otro especial para las bodegas.

(Disponible en: <<http://www.degustalarioja.com/concursos-pinchos-najera-20180913115840-nt.html>>.)

28 - El texto trata de un concurso en Nájera, un pueblo de La Rioja, donde se van a poder probar:

- ▶ a) porciones de comida tomadas como aperitivo.
- b) postres típicos de la región.
- c) desayunos con bollería.
- d) cenas con vino del año o crianza.

29 - De acordo com o texto, é correto afirmar:

- a) As adegas que forem classificadas no concurso receberão móveis novos como premiação.
- b) Este ano é a primeira vez que se realiza um concurso nessa cidade espanhola.
- c) A Associação de Bares da cidade está em desacordo com a organização do evento.
- ▶ d) O evento é organizado pela Prefeitura da cidade de Nájera, cidade conhecida pela produção de móveis.

QUESTÃO 30 – DISCURSIVA

Observe a imagem abaixo:



(Fonte: <<https://www.bbc.com/portuguese/geral-46107995>>, Getty images.)

Escreva um texto de no máximo 10 linhas, descrevendo essa imagem e explicando o que o autor quis representar com ela.

RASCUNHO

Limite máximo