



UNIVERSIDADE FEDERAL DO PARANÁ
PRÓ-REITORIA DE GRADUAÇÃO E ENSINO PROFISSIONALIZANTE
Processo Seletivo 2018
Edital N° 44/2017 – NC – Prova: 03/12/2017

INSCRIÇÃO	TURMA	NOME DO CANDIDATO
-----------	-------	-------------------

ASSINO DECLARANDO QUE LI E COMPREENDI AS INSTRUÇÕES ABAIXO:	ORDEM
---	-------

401 – Licenciatura em Libras – Língua Brasileira de Sinais (Libras)

INSTRUÇÕES GERAIS

- Confira, acima, o seu número de inscrição, turma e nome. Assine no local indicado.
- Aguarde autorização para abrir o caderno de prova. Antes de iniciar a resolução das questões, confira a numeração de todas as páginas.

INSTRUÇÕES EM LIBRAS

1. Haverá, para cada candidato, um caderno de prova para resposta de 30 questões, assim distribuídas: 20 (vinte) questões objetivas de múltipla escolha com os enunciados disponibilizados apenas em Libras, sobre Conhecimentos Gerais e Específicos e 9 (nove) questões objetivas de português como segunda língua, disponibilizadas apenas em língua portuguesa, e 1 (uma) questão discursiva.
2. As questões objetivas são de múltipla escolha, com 4 (quatro) alternativas de resposta, sempre na sequência **a, b, c, d**, das quais apenas 1 (uma) alternativa deverá ser assinalada.
3. As questões objetivas de Conhecimentos Gerais e Específicos serão disponibilizadas exclusivamente em Libras, por meio da apresentação de um vídeo, transmitido em duas etapas:
 - a) **Primeira etapa** - cada questão (enunciado e alternativas) será apresentada duas vezes, com intervalo de 5 (cinco) segundos entre a primeira apresentação e a repetição. Após a apresentação de cada questão, o candidato terá 15 (quinze) segundos para marcar a sua resposta no caderno de questões.
 - b) **Segunda etapa** - cada questão (enunciado e alternativas) será apresentada uma vez, com intervalo de 5 (cinco) segundos entre as questões.
4. O tempo de cada questão apresentada no vídeo será o mesmo para todos os candidatos.
5. As respostas às questões objetivas deverão ser transcritas no cartão-resposta com caneta esferográfica TRANSPARENTE de tinta preta, devendo o candidato assinalar uma única resposta para cada questão.
6. A questão discursiva (redação) deve ser respondida pelo candidato de forma manuscrita com CANETA ESFEROGRÁFICA TRANSPARENTE DE TINTA PRETA, valendo-se apenas do espaço reservado à questão no caderno de prova.
7. Durante o tempo de projeção da prova, é proibida a movimentação do candidato. Ao final da prova, o candidato deverá entregar aos aplicadores de prova o caderno de prova, o cartão-resposta e a folha da questão discursiva.
8. Os 03 (três) últimos candidatos de cada turma somente poderão retirar-se simultaneamente, para garantir a lisura na aplicação da prova.
9. A resposta da questão discursiva deve ser transcrita NA ÍNTEGRA para a folha de versão definitiva, com caneta preta.

Será considerada para correção apenas a resposta que conste na folha de versão definitiva.

DURAÇÃO DESTA PROVA: 5 horas

Conhecimentos Gerais, Conhecimentos Específicos, Português como Segunda Língua e Redação

Surdos

✂

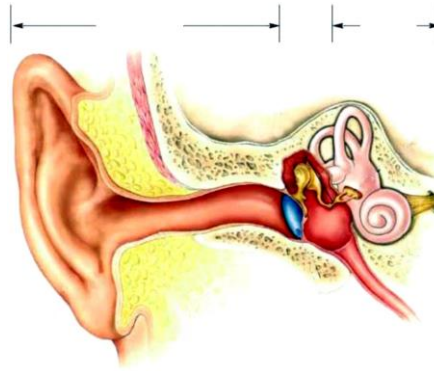
RESPOSTAS					
01 -	06 -	11 -	16 -	21	26
02 -	07 -	12 -	17 -	22	27
03 -	08 -	13 -	18 -	23	28
04 -	09 -	14 -	19 -	24	29
05 -	10 -	15 -	20 -	25	

CONHECIMENTOS GERAIS

BIOLOGIA

01 -

- a)
b)
c)
▶ d)



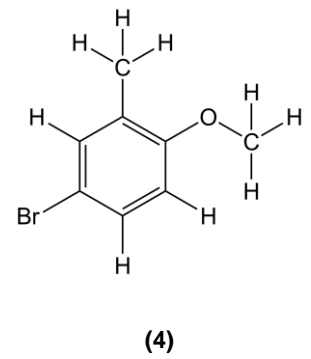
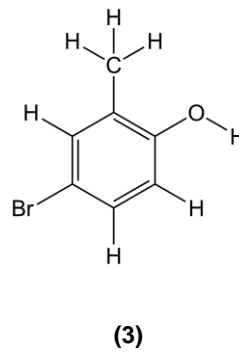
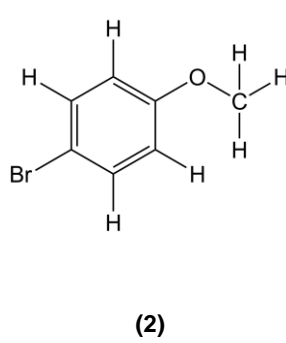
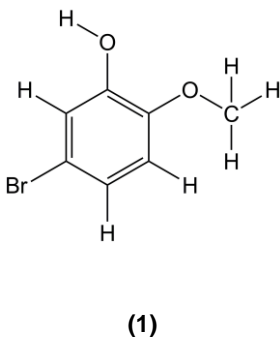
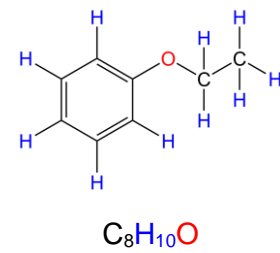
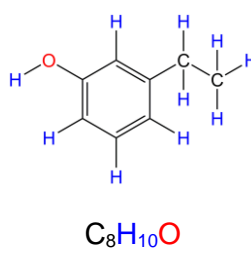
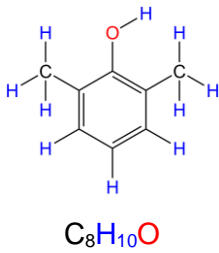
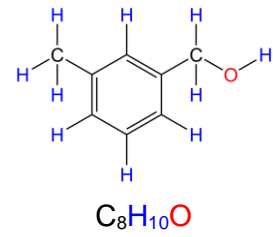
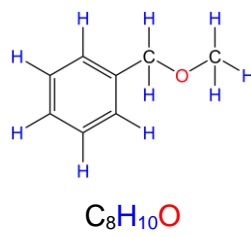
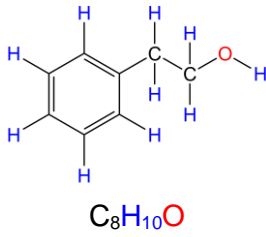
02 -

1. ()
2. ()
3. ()
4. ()

- a)
▶ b)
c)
d)


QUÍMICA/FÍSICA

03 -



- a)
b)
▶ c)
d)

04 -



- 1. ()
- 2. ()
- 3. ()
- 4. ()

- a)
- ▶ b)
- c)
- d)

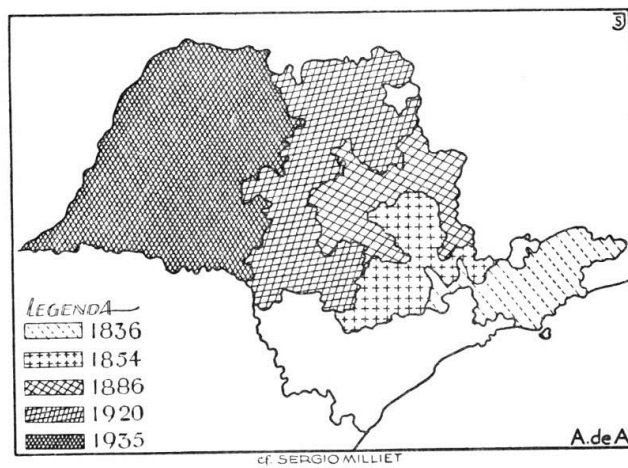
GEOGRAFIA

05 -



- a)
- b)
- ▶ c)
- d)

06 -



- a)
- b)
- c)
- ▶ d)

HISTÓRIA

07 -

- ▶ a)
- b)
- c)
- d)

08 -

- a)
- ▶ b)
- c)
- d)

MATEMÁTICA

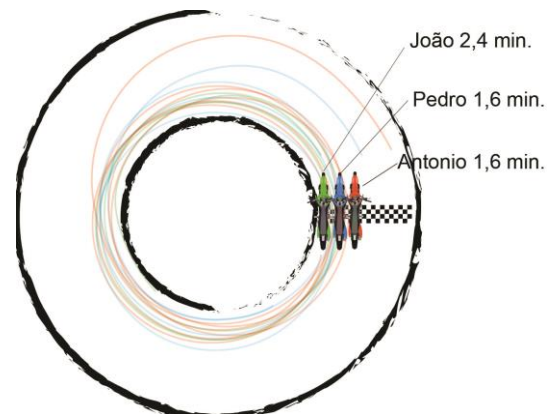
09 -

Gás de cozinha	R\$ 60,00
Garrafão de água	R\$ 16,00

- a)
- b)
- c)
- ▶ d)

*10 -

- a)
- b)
- c)
- d)



CONHECIMENTOS ESPECÍFICOS

11 -

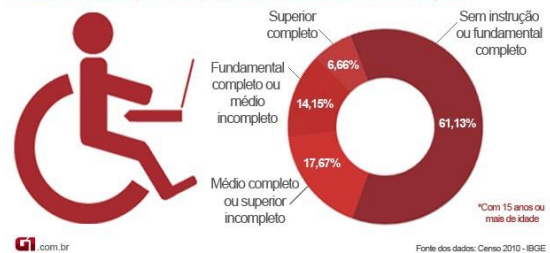
Pessoas com deficiência no Brasil

45.606.048

Percentual de pessoas com deficiência no Brasil, segundo o Censo 2010



Grau de instrução das pessoas com deficiência no país*



(Fonte: http://s2.glbimg.com/5SMjZ59tTpL0WUtn1JpVrAep5Es=/s.glbimg.com/jo/g1/f/original/2016/06/10/infografico_g1ms_pessoas_deficiencia_br.jpg)

- a)
- b)
- ▶ c)
- d)

* Questão anulada, seu valor será distribuído entre as questões válidas por área de conhecimento.

12 -

- 1.
- 2.
- 3.
- a)
- b)
- c)
- d)

13 -

- a)
- b)
- c)
- d)

14 -

- a)
- b)
- c)
- d)

15 -

- a)
- b)
- c)
- d)

16 -

- 1. ()
- 2. ()
- 3. ()
- 4. ()

- a)
- b)
- c)
- d)

17 -

- a)
- b)
- c)
- d)

18 -

- a)
- b)
- c)
- d)

19 -

- a)
- b)
- c)
- d)

20 -

- a)
- b)
- c)
- d)

PORTUGUÊS

21 - Observe a fotografia abaixo:



Fonte: <<https://g1.globo.com/mundo/noticia/imagens-da-semana-de-14-a-20-de-outubro-de-2017.ghtml>>.

A cena mostra pessoas em:

- a) uma tempestade, protegendo-se da chuva.
- b) um incêndio, protegendo-se da fumaça.
- ▶ c) um protesto, protegendo-se do gás lacrimogêneo.
- d) uma região industrial, protegendo-se da poluição.

O texto a seguir é referência para as questões 22 e 23.

Em Albinen, pequena localidade montanhosa da Suíça a menos de duas horas de trem de Berna e a pouco menos de três de Genebra, o sol brilha com frequência, a paisagem é extraordinária e o ar é puro. A única coisa que falta são moradores. O município, com apenas 240 habitantes, perdeu três famílias nos últimos três anos, e seu prefeito, Beat Jost, diz que teve de fechar a escola por falta de alunos. Diante da situação – só restam cinco crianças em idade escolar –, alguns moradores tiveram a ideia de incentivar a chegada de novos residentes pagando até 25.000 francos suíços (cerca de 82.000 reais) por adulto que vá viver na cidade.

A iniciativa, endossada por 94 pessoas (quase a metade do eleitorado), foi apresentada por um grupo de jovens em agosto. A Câmara Municipal a aceitou e será votada em 30 de novembro. O texto propõe também que, além dos 25.000 francos suíços por adulto, se incentive com mais 10.000 francos (32.700 reais) por criança, embora os novos moradores tenham de comprometer-se com uma série de condições, como adquirir ou reformar uma casa de no mínimo 200.000 francos suíços (655.000 reais) e viver dez anos na localidade.

(Fonte: <https://brasil.elpais.com/brasil/2017/11/26/internacional/1511693870_421621.html>.)

22 - A proposta que será votada pela Câmara Municipal da cidade de Albinen tem por objetivo:

- a) incentivar o turismo nas regiões montanhosas.
- b) atrair mão de obra especializada.
- ▶ c) recompor a população do município.
- d) aumentar o número de eleitores da cidade.

23 - A iniciativa dá incentivo financeiro especial a:

- a) adultos homens.
- b) adultos mulheres.
- c) professores.
- ▶ d) crianças.

24 - Observe o infográfico abaixo:



Fonte: <[A finalidade desse infográfico é:](https://www.google.com.br/search?q=infogr%C3%A1ficos&client=firefox-cr=0&tbn=isch&source=iu&ictx=1&fir=rUc2rASoXI3AbM%253A%252C-7bM0NkOqjFWM%252C_&usg=__u2baLKsneN33ETyZ8Fq54ls-Y%3D&sa=X&ved=0ahUKEwLwrL42tzXAhXCQpAKHT54A9AQ_h0lkwEwDg#imgdii=h7zScV9ZrjWIoM:&imgsrc=MBgv0w494pbyYM:>></p>
</div>
<div data-bbox=)

- apresentar os produtos que são mais consumidos no dia a dia.
- ▶ alertar sobre os níveis de água potável envolvidos no processamento de alguns itens.
- informar sobre os produtos que contêm menos água em sua composição.
- d) mostrar a relação entre o preço da água potável e o custo de alguns produtos do dia a dia.

25 - Leia o texto abaixo:

A Câmara dos Deputados encerrou sua “semana da segurança” com a aprovação de cinco projetos de lei que endurecem a punição de criminosos, mas pouco ajudam a esclarecer os crimes e a evitá-los.

De acordo com o texto:

- Com os projetos de lei aprovados na “semana da segurança”, a Câmara dos Deputados deu um passo importante para que crimes sejam evitados.
- b) De acordo com os projetos de lei aprovados pela Câmara dos Deputados, a punição de criminosos deve ocorrer no prazo de uma semana.
- c) Com os projetos de lei aprovados pela Câmara dos Deputados, vai ficar mais difícil punir criminosos.
- ▶ d) Os projetos de lei aprovados pela Câmara dos Deputados não contribuem para que crimes sejam evitados.

26 - Observe a imagem ao lado:

A intenção do autor dessa imagem é:

- ▶ a) caracterizar o Facebook como alternativa de mobilização social.
- b) chamar a atenção para a violência das redes sociais.
- c) incentivar os manifestantes a partirem para a luta armada.
- d) denunciar a violência das manifestações de rua.



27 - A imagem abaixo foi usada numa determinada campanha publicitária:



Fonte: <<https://imgur.com/gallery/3X5pZL8>>

A imagem é coerente com uma campanha:

- a) a favor de uma vida mais ligada à natureza.
- ▶ b) contra a derrubada de florestas.
- c) a favor da prática de exercícios físicos.
- d) contra o sedentarismo.

28 - Considere o texto abaixo:

Em um estudo conduzido em 1965, os especialistas em educação e psicologia David Ausubel e Mohamed Youssef foram categóricos em dizer que um estudante precisaria ser exposto a uma palavra 17 vezes antes de aprendê-la e passar a usá-la. Outras pesquisas apontam para uma média que varia entre 15 e 20 vezes.

_____ Catherine Snow, professora de educação na prestigiada Universidade Harvard, nos EUA, pondera que existem diferentes condições de aprendizado e, às vezes, basta ouvir a palavra uma única vez para aprendê-la.

(Fonte: <<https://noticias.uol.com.br/ciencia/ultimas-noticias/bbc/2017/11/28/quantas-vezes-o-cerebro-precisa-ser-exposto-a-uma-palavra-para-aprende-la.htm>>.)

Assinale a alternativa que preenche corretamente a lacuna acima.

- a) Portanto
- b) Onde
- c) Porque
- ▶ d) Mas.

29 - Observe a charge ao lado:

A charge mostra uma mudança comportamental na sociedade, causada:

- ▶ a) pela popularização da tecnologia.
- b) pelo aumento da violência urbana.
- c) pela entrada da mulher no mercado de trabalho.
- d) pelas mudanças na constituição das famílias.



Fonte: <<https://www.google.com.br/search?q=charges&tbm=isch&tbo=u&source...>>

QUESTÃO 30 – DISCURSIVA

Observe as imagens abaixo, relacionadas com o fenômeno da Black-Friday:

Imagem 1



Fonte: <<https://g1.globo.com/mundo/noticia/imagens-da-semana-de-18-a-24-de-novembro-de-2017.ghtml>>.

Imagem 2



Fonte: <<https://www.google.com.br/search?q=black+friday&client=firefox>>.

Escreva um texto expressando sua opinião sobre esse fenômeno que leva milhares de pessoas às lojas nas últimas semanas de novembro em todas as partes do mundo. Seu texto deve ter no mínimo 7 e no máximo 10 linhas.

Límite mínimo